



### 3つの かずのけいさん 4

3つのかずのたしひきの  
ぶんしょうもんだい



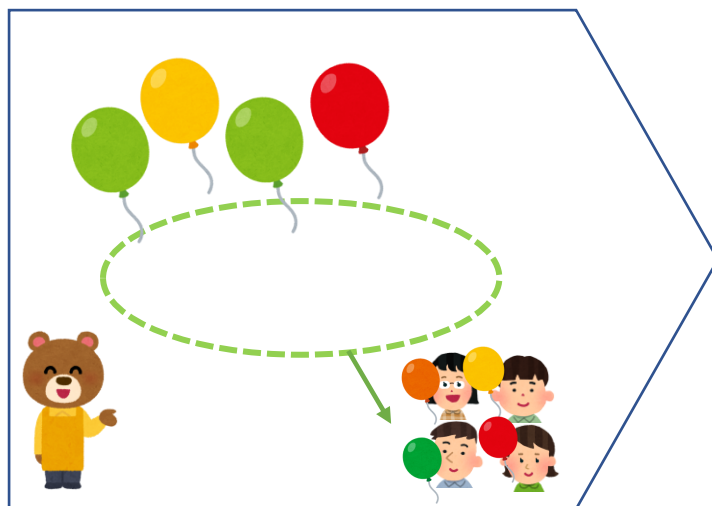
日にち：            月            日

名まえ \_\_\_\_\_

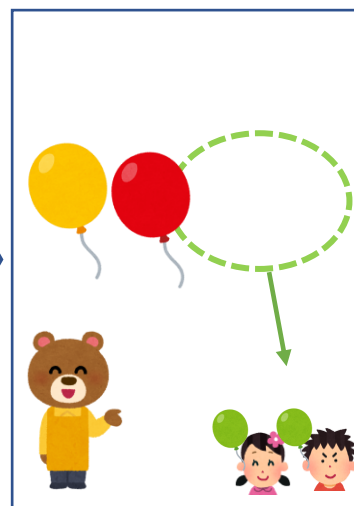
1 ふうせんは、なんこになりましたか。(うすいじはなぞりましょう。)



8こ あります。



4こ あげました。



2こ あげました。

しき：

$$8 - 4 - 2 =$$

こたえ：

こ

2 こどもがこうえんに9にん います。5にん かえり  
ました。そのあと 4にん きました。  
こどもは なんにん になりましたか。(うすいじは  
なぞりましょう。)

しき：

$$\quad - \quad + \quad =$$

こたえ：

にん





# 3つの かずのけいさん 4

3つのかずのたしひきの  
ぶんしょうもんだい



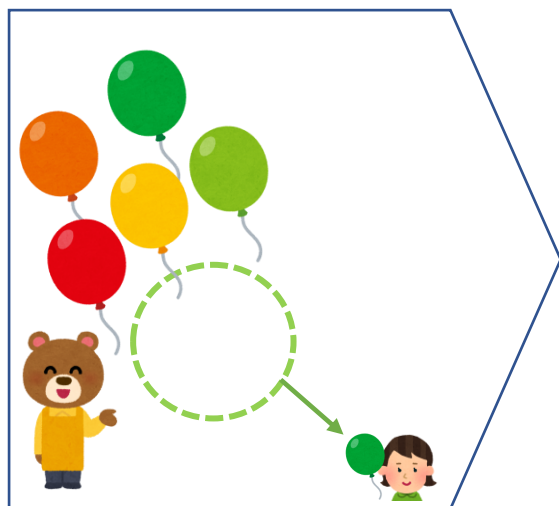
日にち：            月            日

名まえ \_\_\_\_\_

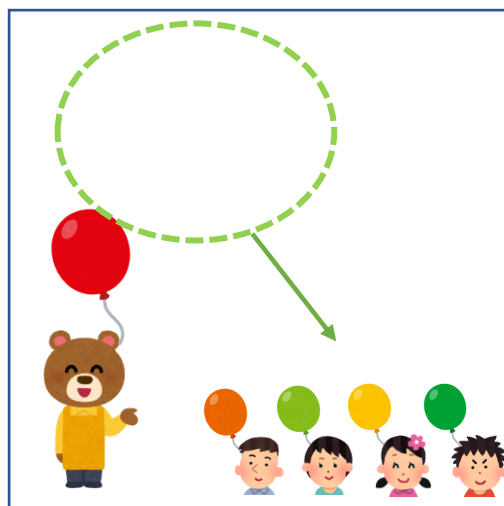
1 ふうせんは、なんこになりましたか。(うすいじはなぞりましょう。)



6こあります。



1こあげました。



4こあげました。

しき：

—      —      =

こたえ：

\_\_\_\_\_

2 すずめが 7わ とまっています。4わ とんでいきました。  
そのあと 2わ もどってきました。  
すずめは なんわ とまっていますか。(うすいじは  
なぞりましょう。)

しき：

\_\_\_\_\_

こたえ：

わ

\_\_\_\_\_





3つの  
かずのけいさん 4


3つのかずのたしひきの  
ぶんしょうもんだい



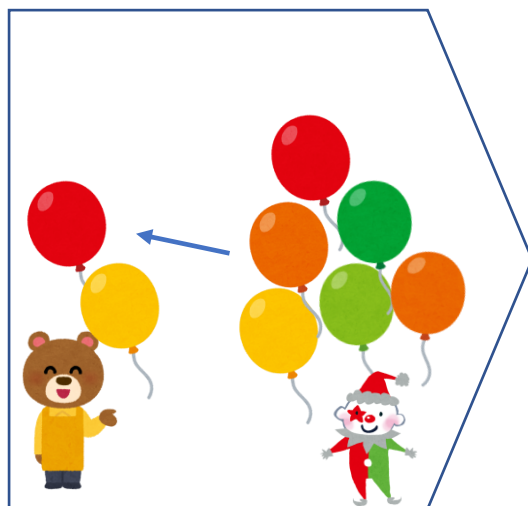
日にち：            月            日

名まえ \_\_\_\_\_

1 ふうせんは、なんこになりましたか。(うすいじはなぞりましょう。)



2こあります。



6こもらいました。



5こあげました。

しき：

+            -            =

こたえ：  
\_\_\_\_\_

2 こどもがこうえんに5にんいます。2にんかえり  
ました。そのあと6にんきました。  
こどもはなんにんになりましたか。

しき：

こたえ：  
\_\_\_\_\_





3つの  
かずのけいさん 4

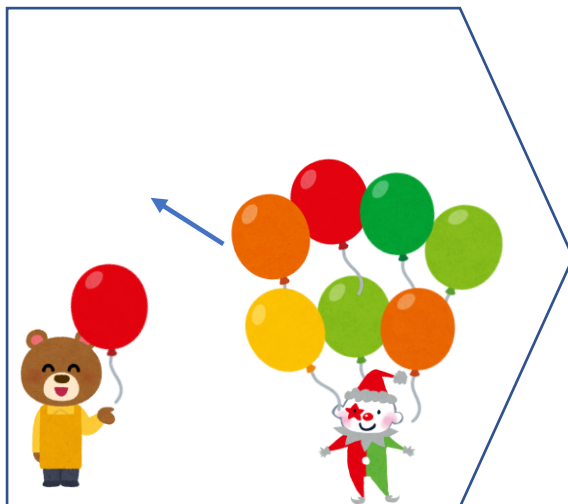

3つのかずのたしひきの  
ぶんしょうもんだい



日にち： 月 日

名まえ \_\_\_\_\_

1 ふうせんは、なんこになりましたか。



1こあります。

7こもらいました。

4こあげました。

しき：

こたえ：  
\_\_\_\_\_

2 みかんが 4こあります。1こたべました。

つぎのひ 2こたべました。

みかんはなんこになりましたか。

しき：

こたえ：  
\_\_\_\_\_





3つの  
かずのけいさん 4

3つのかずのたしひきの  
ぶんしょうもんだい



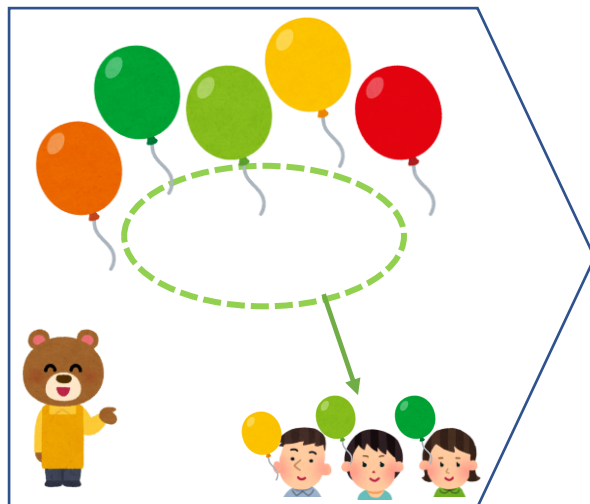
日にち： 月 日

名まえ \_\_\_\_\_

1 ふうせんは、なんこになりましたか。



8こあります。



3こあげました。



2こもらいました。

しき：

こたえ： \_\_\_\_\_

2 こどもがこうえんに 9にん います。4にん かえり  
ました。そのあと 5にん きました。  
こどもは なんにん になりましたか。

しき：

こたえ： \_\_\_\_\_





3つの  
かずのけいさん 4

3つのかずのたしひきの  
ぶんしょうもんだい



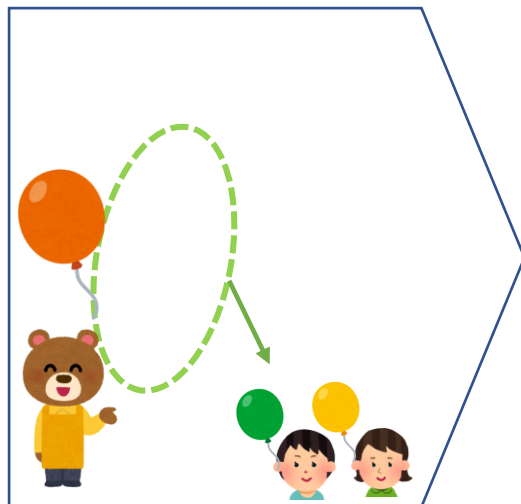
日にち：            月            日

名まえ \_\_\_\_\_

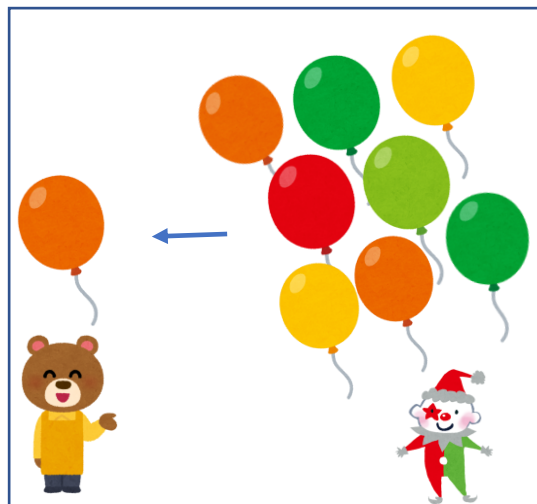
1 ふうせんは、なんこになりましたか。



3こあります。



2こあげました。



8こもらいました。

しき：

こたえ：

---

2 いちごが 6こあります。ともだちから 3こもらいました。そのあと 5こたべました。いちごはなんこになりましたか。

しき：

こたえ：

---





3つの  
かずのけいさん 4

3つのかずのたしひきの  
ぶんしょうもんだい




日にち：            月            日

名まえ \_\_\_\_\_

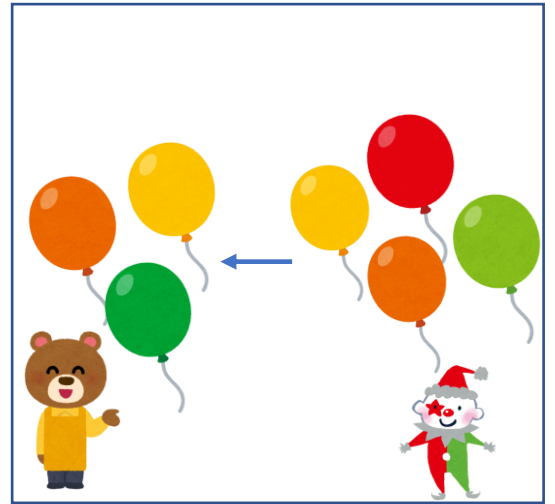
1 ふうせんは、なんこになりましたか。



4こあります。



1こあげました。



4こもらいました。

しき：

こたえ：

---

2 みかんが 3こあります。ともだちから 5こもらいました。そのあと 2こたべました。  
みかんはなんこになりましたか。

しき：

こたえ：

---





3つの  
かずのけいさん 4

3つのかずのたしひきの  
ぶんしょうもんだい



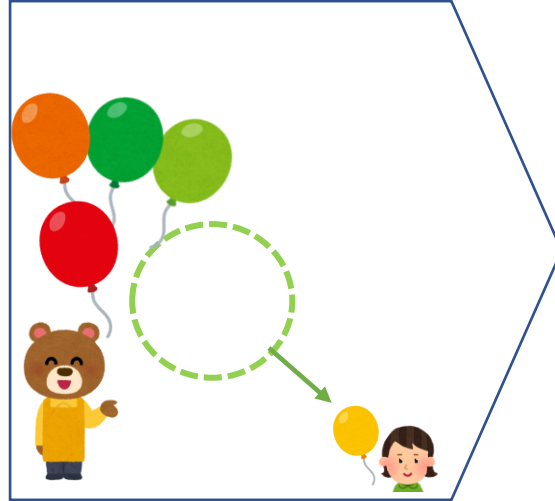
日にち： 月 日

名まえ \_\_\_\_\_


1 ふうせんは、なんこになりましたか。



5こあります。



1こあげました。



3こあげました。

しき：

こたえ： \_\_\_\_\_

2 こどもがこうえんに3にんいます。あとから7にん  
きました。そのあと6にんかえりました。  
こどもはなんにんになりましたか。

しき：

こたえ： \_\_\_\_\_







3つの  
かずのけいさん 4

3つのかずのたしひきの  
ぶんしょうもんだい



日にち： 月 日

名まえ \_\_\_\_\_

1 ふうせんは、なんこになりましたか。



9こあります。



2こあげました。



5こあげました。

しき：

こたえ： \_\_\_\_\_

2 こどもがこうえんに4にんいます。3にんかえり  
ました。そのあと7にんきました。  
こどもはなんにんになりましたか。

しき：

こたえ： \_\_\_\_\_





3つの  
かずのけいさん 4

3つのかずのたしひきの  
ぶんしょうもんだい

10

日にち： 月 日

名まえ \_\_\_\_\_

- 1 みかんが 8 こ あります。2 こ たべました。  
つぎのひ 1 こ たべました。  
みかんは なんこ になりましたか。

しき：

こたえ： \_\_\_\_\_

- 2 こどもが こうえんに 7 にん います。あとから 3 にん  
きました。そのあと 4 にん かえりました。  
こどもは なんにん になりましたか。

しき：

こたえ： \_\_\_\_\_

- 3 つぎの けいさんを しましょう。

①  $10 - 7 + 3 =$

②  $6 - 2 - 2 - 2 =$





3つの  
かずのけいさん 4

3つのかずのたしひきの  
ぶんしょうもんだい



日にち： 月 日

名まえ \_\_\_\_\_

1 いちごが 1 こ あります。ともだちから 8 こ  
もらいました。そのあと 6 こ たべました。  
いちごは なんこ になりましたか。

しき：

こたえ： \_\_\_\_\_

2 こどもが こうえんに 7 にん います。4 にん かえり  
ました。そのあと 5 にん きました。  
こどもは なんにん になりましたか。

しき：

こたえ： \_\_\_\_\_

3 つぎの けいさんを しましょう。

$$\textcircled{1} 2 + 2 + 2 + 2 = \square$$

$$\textcircled{2} 10 - 4 + 3 = \square$$





3つの  
かずのけいさん 4

3つのかずのたしひきの  
ぶんしょうもんだい

12

日にち： 月 日

名まえ \_\_\_\_\_

- 1 すずめが 4わ とまっています。2わ とんでいきました。  
そのあと 1わ とんでいきました。  
すずめは なんわ とまっていますか。

しき：

こたえ： \_\_\_\_\_

- 2 こどもが こうえんに 5にん います。あとから 5にん  
きました。そのあと 3にん かえりました。  
こどもは なんにん になりましたか。

しき：

こたえ： \_\_\_\_\_

- 3 つぎの けいさんを しましょう。

①  $7 + 2 - 8 =$

②  $2 - 1 + 4 =$





3つの  
かずのけいさん 4

3つのかずのたしひきの  
ぶんしょうもんだい

13

日にち： 月 日

名まえ \_\_\_\_\_

- 1 すずめが 8わ とまっています。2わ とんでいきました。  
そのあと 1わ もどってきました。  
すずめは なんわ とまっていますか。

しき：

こたえ： \_\_\_\_\_

- 2 みかんが 3こ あります。1こ たべました。  
つぎのひ 1こ たべました。  
みかんは なんこ になりましたか。

しき：

こたえ： \_\_\_\_\_

- 3 つぎの けいさんを しましょう。

$$\textcircled{1} 10 - 4 + 3 = \square$$

$$\textcircled{2} 9 - 3 - 3 - 3 = \square$$





3つの  
かずのけいさん 4

3つのかずのたしひきの  
ぶんしょうもんだい

14

日にち： 月 日

名まえ \_\_\_\_\_

1 こどもがこうえんに 3 にん います。あとから 5 にん  
きました。そのあと 4 にん かえりました。  
こどもはなんにんになりましたか。

しき：

こたえ： \_\_\_\_\_

2 いちごが 6 こ あります。2 こ たべました。  
そのあとともだちから 6 こ もらいました。  
いちごはなんこになりましたか。

しき：

こたえ： \_\_\_\_\_

3 つぎのけいさんをしましょう。

$$\textcircled{1} 4 + 6 - 9 = \square$$

$$\textcircled{2} 1 + 1 + 1 + 1 = \square$$





3つの  
かずのけいさん 4

3つのかずのたしひきの  
ぶんしょうもんだい

15

めざせ100点!



てん

名まえ

1 いちごが 4 こ あります。ともだちから 5 こ  
もらいました。そのあと 2 こ たべました。  
いちごは なんこ になりましたか。(25点)

しき：

こたえ：

2 すずめが 6 わ とまっています。4 わ とんでいきました。  
そのあと 2 わ もどってきました。  
すずめは なんわ とまっていますか。(25点)

しき：

こたえ：

3 つぎの けいさんを しましょう。(各25点)

①  $2 + 8 - 5 =$

②  $9 - 3 + 2 =$





3つの  
かずのけいさん 4

3つのかずのたしひきの  
ぶんしょうもんだい

16

めざせ100点!



名まえ \_\_\_\_\_

1 こどもが こうえんに 4 にん います。あとから 4 にん  
きました。そのあと 5 にん かえりました。  
こどもは なんにん になりましたか。(25点)

しき：

こたえ： \_\_\_\_\_

2 すずめが 5 わ とまっています。2 わ とんでいきました。  
そのあと 1 わ とんでいきました。  
すずめは なんわ とまっていますか。(25点)

しき：

こたえ： \_\_\_\_\_

3 つぎの けいさんを しましょう。(各25点)

①  $3 + 6 - 4 =$

②  $8 - 2 - 2 - 2 =$







### 3つの かずのけいさん 4

3つのかずのたしひきの  
ぶんしょうもんだい



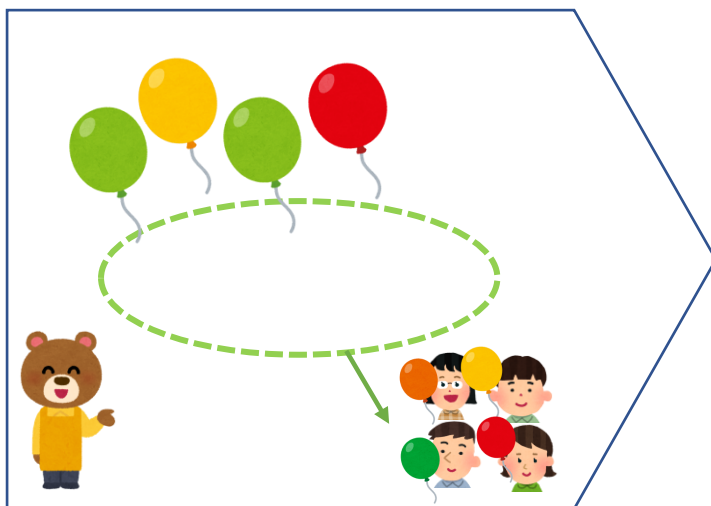
日にち： 月 日

名まえ \_\_\_\_\_

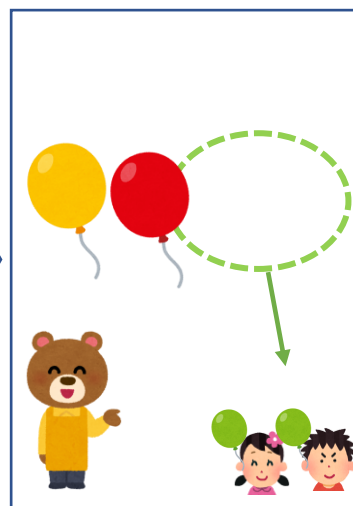
1 ふうせんは、なんこになりましたか。(うすいじはなぞりましょう。)



8こ あります。



4こ あげました。



2こ あげました。

しき：

$$8 - 4 - 2 = 2$$

こたえ：

2こ

2 こどもがこうえんに9にんいます。5にんかえり  
ました。そのあと4にんきました。  
こどもはなんにんになりましたか。(うすいじは  
なぞりましょう。)

しき：

$$9 - 5 + 4 = 8$$

こたえ：

8にん





# 3つの かずのけいさん 4

3つのかずのたしひきの  
ぶんしょうもんだい



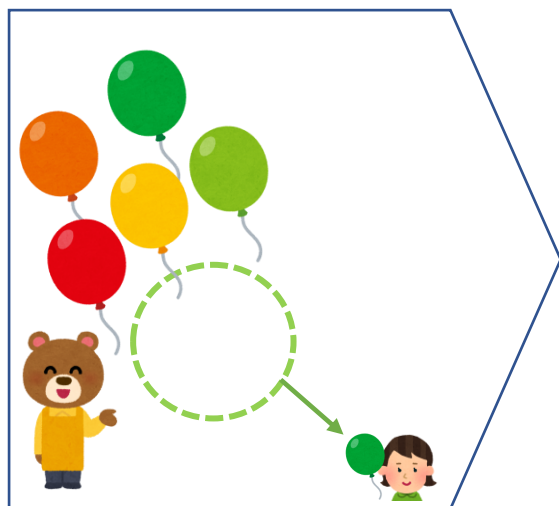
日にち：            月            日

名まえ \_\_\_\_\_

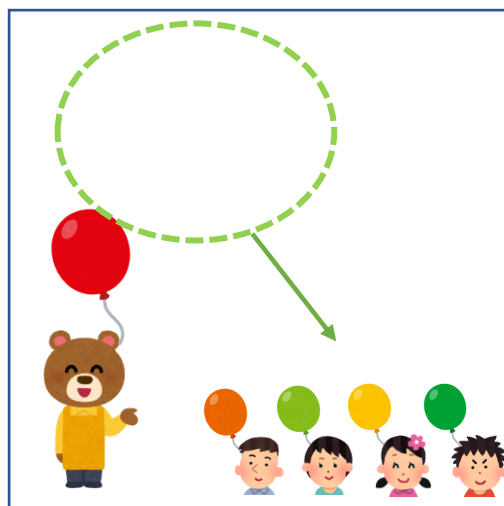
1 ふうせんは、なんこになりましたか。(うすいじはなぞりましょう。)



6こあります。



1こあげました。



4こあげました。

しき：

$$6 - 1 - 4 = 1$$

こたえ：

1こ

2 すずめが 7わ とまっています。4わ とんでいきました。  
そのあと 2わ もどってきました。

すずめは なんわ とまっていますか。(うすいじは  
なぞりましょう。)

しき：

$$7 - 4 + 2 = 5$$

こたえ：

5わ





### 3つの かずのけいさん 4


● 3つのかずのたしひきの  
ぶんしょうもんだい

3

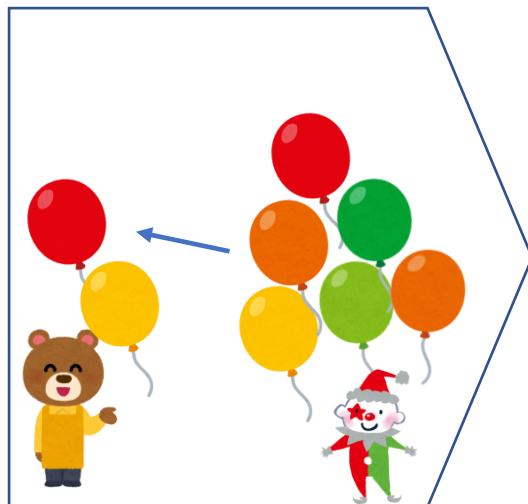
日にち：            月            日

名まえ \_\_\_\_\_

1 ふうせんは、なんこになりましたか。(うすいじはなぞりましょう。)



2こあります。



6こもらいました。



5こあげました。

しき：

$$2 + 6 - 5 = 3$$

こたえ：

3こ

2 こどもがこうえんに5にんいます。2にんかえり  
ました。そのあと6にんきました。  
こどもはなんにんになりましたか。

しき：

$$5 - 2 + 6 = 9$$

こたえ：

9にん





3つの  
かずのけいさん 4

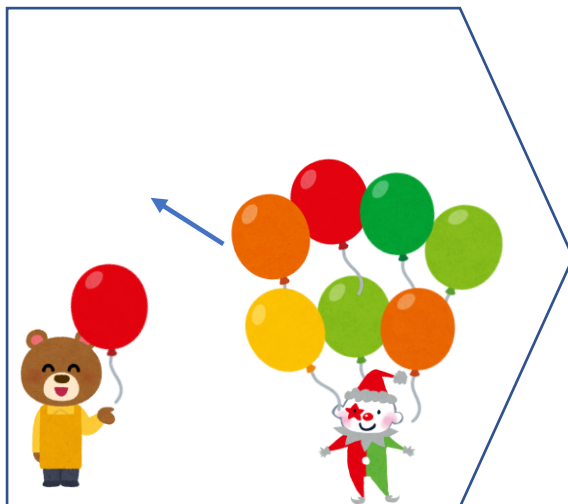

3つのかずのたしひきの  
ぶんしょうもんだい

4

日にち： 月 日

名まえ \_\_\_\_\_

1 ふうせんは、なんこになりましたか。



1 こ あります。

7 こ もらいました。

4 こ あげました。

しき：

$$1 + 7 - 4 = 4$$

こたえ：

4 こ

2 みかんが 4 こ あります。1 こ たべました。

つぎのひ 2 こ たべました。

みかんは なんこ になりましたか。

しき：

$$4 - 1 - 2 = 1$$

こたえ：

1 こ





3つの  
かずのけいさん 4

3つのかずのたしひきの  
ぶんしょうもんだい

5

日にち： 月 日

名まえ \_\_\_\_\_

1 ふうせんは、なんこになりましたか。



8こあります。



3こあげました。



2こもらいました。

しき：

$$8 - 3 + 2 = 7$$

こたえ： 7こ

2 こどもがこうえんに 9にん います。4にん かえり  
ました。そのあと 5にん きました。  
こどもは なんにん になりましたか。

しき：

$$9 - 4 + 5 = 10$$

こたえ： 10にん





# 3つの かずのけいさん 4

3つのかずのたしひきの  
ぶんしょうもんだい

6

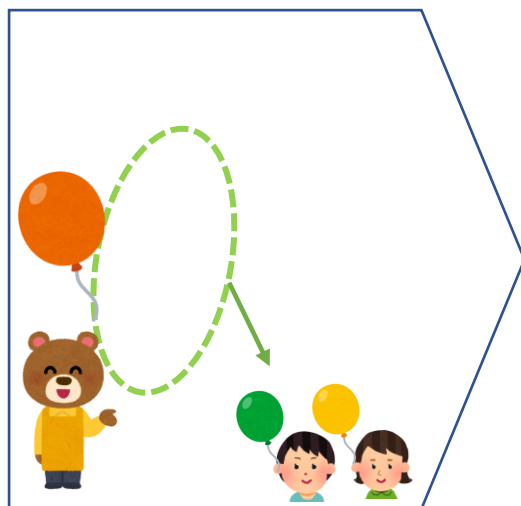
日にち：            月            日

名まえ \_\_\_\_\_

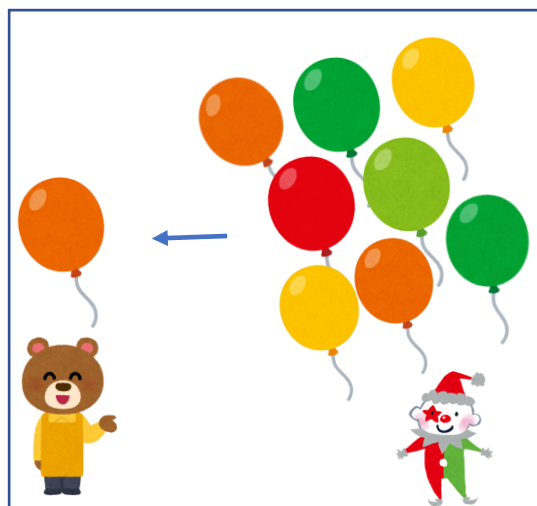
1 ふうせんは、なんこになりましたか。



3こあります。



2こあげました。



8こもらいました。

しき：

$$3 - 2 + 8 = 9$$

こたえ：    9こ

2 いちごが 6こあります。ともだちから 3こもらいました。そのあと 5こたべました。  
いちごは なんこになりましたか。

しき：

$$6 + 3 - 5 = 4$$

こたえ：    4こ





3つの  
かずのけいさん 4

3つのかずのたしひきの  
ぶんしょうもんだい




日にち： 月 日

名まえ \_\_\_\_\_

1 ふうせんは、なんこになりましたか。



4こあります。



1こあげました。



4こもらいました。

しき：

$$4 - 1 + 4 = 7$$

こたえ：

7こ

2 みかんが 3こあります。ともだちから 5こもらいました。そのあと 2こたべました。  
みかんはなんこになりましたか。

しき：

$$3 + 5 - 2 = 6$$

こたえ：

6こ





# 3つの かずのけいさん 4

3つのかずのたしひきの  
ぶんしょうもんだい



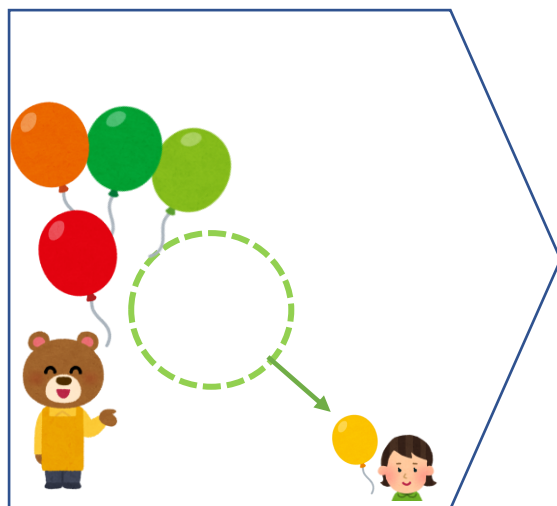
日にち：            月            日

名まえ \_\_\_\_\_

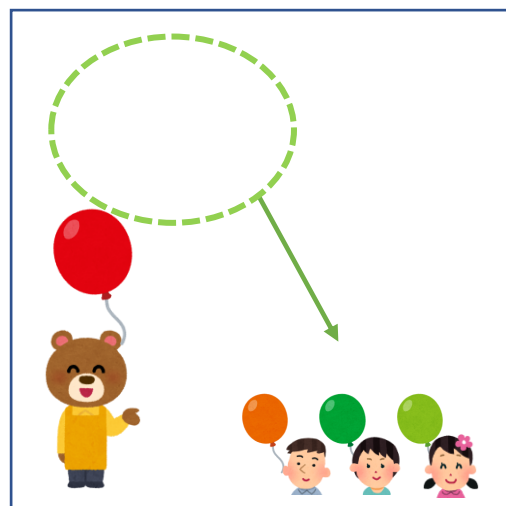
1 ふうせんは、なんこになりましたか。



5こあります。



1こあげました。



3こあげました。

しき：

$$5 - 1 - 3 = 1$$

こたえ：            1こ

2 こどもがこうえんに3にんいます。あとから7にん  
きました。そのあと6にんかえりました。  
こどもはなんにんになりましたか。

しき：

$$3 + 7 - 6 = 4$$

こたえ：            4にん







# 3つの かずのけいさん 4

3つのかずのたしひきの  
ぶんしょうもんだい

9


日にち： 月 日

名まえ \_\_\_\_\_


1 ふうせんは、なんこになりましたか。



9こあります。



2こあげました。



5こあげました。

しき：

$$9 - 2 - 5 = 2$$

こたえ：

2こ

2 こどもがこうえんに4にんいます。3にんかえり  
ました。そのあと7にんきました。  
こどもはなんにんになりましたか。

しき：

$$4 - 3 + 7 = 8$$

こたえ：

8にん





### 3つの かずのけいさん 4

● 3つのかずのたしひきの  
ぶんしょうもんだい

10

日にち：            月            日

名まえ \_\_\_\_\_

- 1 みかんが 8 こ あります。2 こ たべました。  
つぎのひ 1 こ たべました。  
みかんは なんこ になりましたか。

しき： $8 - 2 - 1 = 5$

こたえ： 5 こ

- 2 こどもが こうえんに 7 にん います。あとから 3 にん  
きました。そのあと 4 にん かえりました。  
こどもは なんにん になりましたか。

しき： $7 + 3 - 4 = 6$

こたえ： 6 にん

- 3 つぎの けいさんを しましょう。

①  $10 - 7 + 3 =$  6

3

②  $6 - 2 - 2 - 2 =$  0

4





### 3つの かずのけいさん 4

3つのかずのたしひきの  
ぶんしょうもんだい



日にち：            月            日

名まえ \_\_\_\_\_

1 いちごが 1 こ あります。ともだちから 8 こ  
もらいました。そのあと 6 こ たべました。  
いちごは なんこ になりましたか。

しき：

$$1 + 8 - 6 = 3$$

こたえ：            3 こ

2 こどもが こうえんに 7 にん います。4 にん かえり  
ました。そのあと 5 にん きました。  
こどもは なんにん になりましたか。

しき：

$$7 - 4 + 5 = 8$$

こたえ：            8 にん

3 つぎの けいさんを しましょう。

$$\textcircled{1} 2 + 2 + 2 + 2 =$$

8



$$\textcircled{2} 10 - 4 + 3 =$$

9





### 3つの かずのけいさん 4

● 3つのかずのたしひきの  
ぶんしょうもんだい

12

日にち：            月            日

名まえ \_\_\_\_\_

- 1 すずめが 4わ とまっています。2わ とんでいきました。  
そのあと 1わ とんでいきました。  
すずめは なんわ とまっていますか。

しき：  $4 - 2 - 1 = 1$

こたえ： 1わ

- 2 こどもが こうえんに 5にん います。あとから 5にん  
きました。そのあと 3にん かえりました。  
こどもは なんにん になりましたか。

しき：  $5 + 5 - 3 = 7$

こたえ： 7にん

- 3 つぎの けいさんを しましょう。

①  $7 + 2 - 8 =$

1



②  $2 - 1 + 4 =$

5





### 3つの かずのけいさん 4

● 3つのかずのたしひきの  
ぶんしょうもんだい

13

日にち：      月      日

名まえ \_\_\_\_\_

1 すずめが 8わ とまっています。2わ とんでいきました。  
そのあと 1わ もどってきました。  
すずめは なんわ とまっていますか。

しき： $8 - 2 + 1 = 7$

こたえ：**7わ**

2 みかんが 3こ あります。1こ たべました。  
つぎのひ 1こ たべました。  
みかんは なんこ になりましたか。

しき： $3 - 1 - 1 = 1$

こたえ：**1こ**

3 つぎの けいさんを しましょう。

①  $10 - 4 + 3 =$  9



②  $9 - 3 - 3 - 3 =$  0





### 3つの かずのけいさん 4

● 3つのかずのたしひきの  
ぶんしょうもんだい

14

日にち：            月            日

名まえ \_\_\_\_\_

1 こどもが こうえんに 3 にん います。あとから 5 にん  
きました。そのあと 4 にん かえりました。  
こどもは なんにん になりましたか。

しき：

$$3 + 5 - 4 = 4$$

こたえ：    4 にん

2 いちごが 6 こ あります。2 こ たべました。  
そのあと ともだちから 6 こ もらいました。  
いちごは なんこ になりましたか。

しき：

$$6 - 2 + 6 = 10$$

こたえ：    10 こ

3 つぎの けいさんを しましょう。

$$\textcircled{1} 4 + 6 - 9 =$$

1

10

$$\textcircled{2} 1 + 1 + 1 + 1 =$$

4

2





3つの  
かずのけいさん 4

3つのかずのたしひきの  
ぶんしょうもんだい

15

めざせ100点!



名まえ \_\_\_\_\_

1 いちごが 4 こ あります。ともだちから 5 こ  
もらいました。そのあと 2 こ たべました。  
いちごは なんこ になりましたか。 (25点)

しき:

$$4 + 5 - 2 = 7$$

こたえ:

7 こ

2 すずめが 6 わ とまっています。4 わ とんでいきました。  
そのあと 2 わ もどってきました。  
すずめは なんわ とまっていますか。(25点)

しき:

$$6 - 4 + 2 = 4$$

こたえ:

4 わ

3 つぎの けいさんを しましょう。(各25点)

$$\textcircled{1} 2 + 8 - 5 = 5$$



10

$$\textcircled{2} 9 - 3 + 2 = 8$$



6





3つの  
かずのけいさん 4

● 3つのかずのたしひきの  
ぶんしょうもんだい

16

めざせ100点!



名まえ \_\_\_\_\_

1 こどもが こうえんに 4にん います。あとから 4にん  
きました。そのあと 5にん かえりました。  
こどもは なんにん になりましたか。(25点)

しき： $4 + 4 - 5 = 3$

こたえ：3にん

2 すずめが 5わ とまっています。2わ とんでいきました。  
そのあと 1わ とんでいきました。  
すずめは なんわ とまっていますか。(25点)

しき： $5 - 2 - 1 = 2$

こたえ：2わ

3 つぎの けいさんを しましょう。(各25点)

①  $3 + 6 - 4 =$  5



②  $8 - 2 - 2 - 2 =$  2

