



あわせていくつ4

◎ あとからふえる




日にち： 月 日

名まえ _____

・ しきにかいて こたえましょう。(うすいじはなぞりましょう。)

① うさぎが 3びき いました。あとから 1びき きました。
うさぎは ぜんぶで なんびき になりましたか。



しき

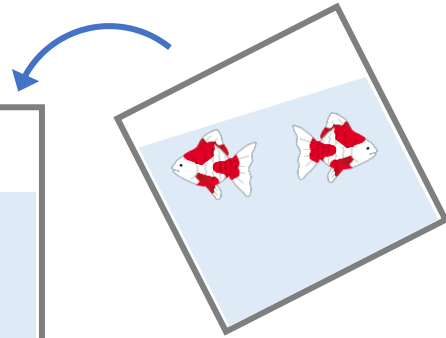
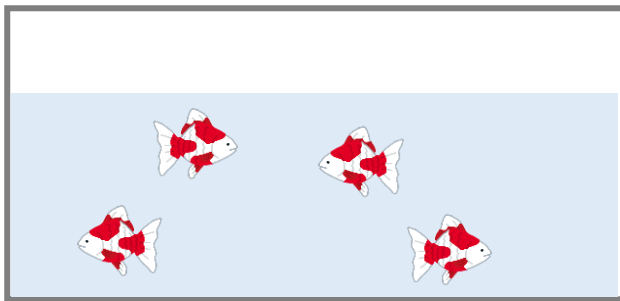
3	+	1	=		
---	---	---	---	--	--

こたえ

--	--

ひき

② きんぎょが 4ひき いました。あとから 2ひき いました。
きんぎょは ぜんぶで なんびき になったでしょう。



しき

	+		=		
--	---	--	---	--	--

こたえ

--	--

ぴき





あわせていくつ4

◎ あとからふえる




日にち： 月 日

名まえ _____

・ しきにかいて こたえましょう。(うすいじはなぞりましょう。)

① うさぎが 3びき いました。あとから 1びき きました。
うさぎは ぜんぶで なんびき になりましたか。



しき

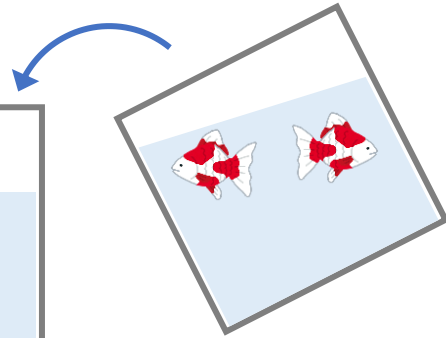
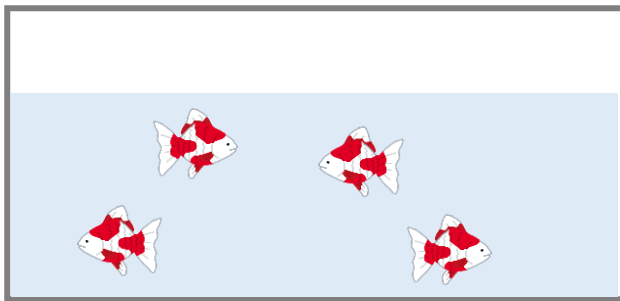
$$3 + 1 = 4$$

こたえ

$$4$$

ひき

② きんぎょが 4ひき いました。あとから 2ひき いました。
きんぎょは ぜんぶで なんびき になったでしょう。



しき

$$4 + 2 = 6$$

こたえ

$$6$$

ひき

