



くりあがりのある
たしざん！

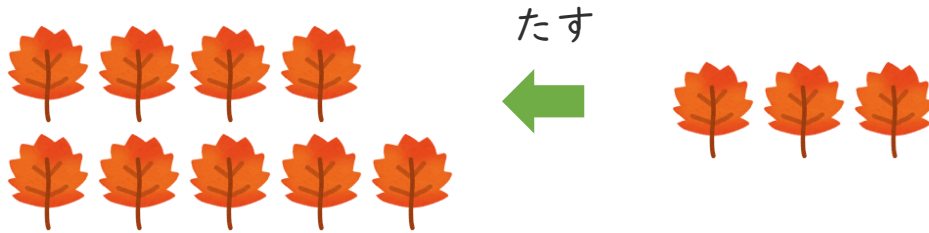
● あわせていくつ？
(えをみてかんがえよう)



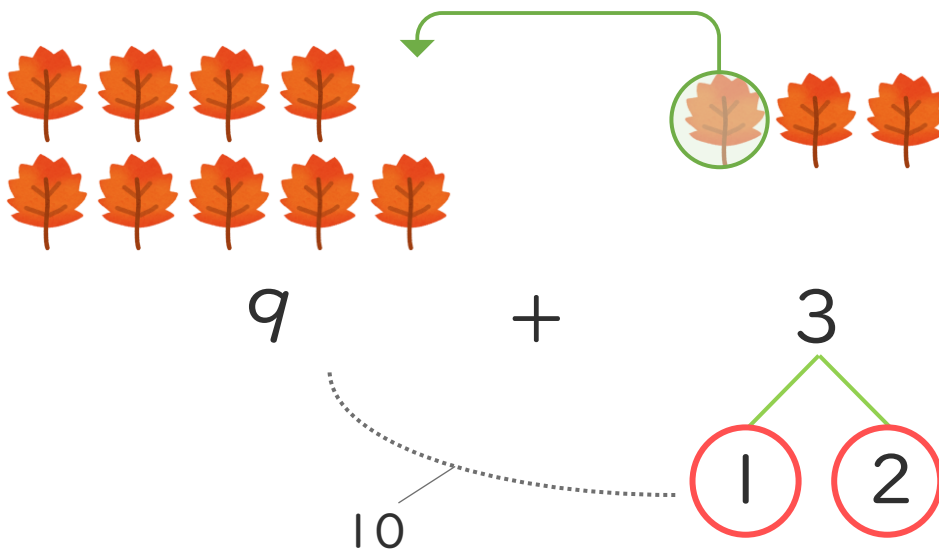
日にち： 月 日

名まえ _____

- ・ ゆうきさんは おちばを 9まい、たくやさんは 3まいひろいました。あわせてなんまいひろいましたか。



① けいさんのしかたをかんがえましょう。



② しきとこたえをかきましょう。(うすいじはなぞりましょう。)

しき $\left[9 + 3 = \right]$

こたえ $\left[\quad \text{まい} \quad \right]$





くりあがりのある
たしざん！

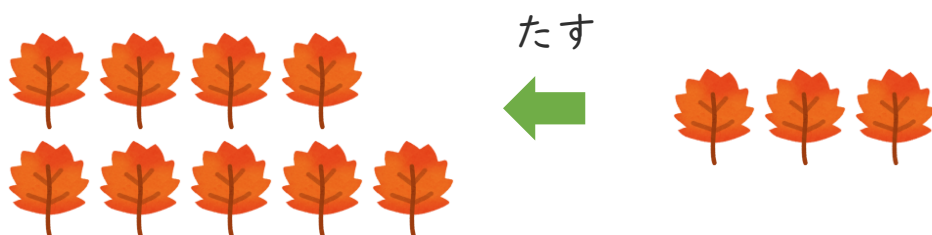
● あわせていくつ？
(えをみてかんがえよう)



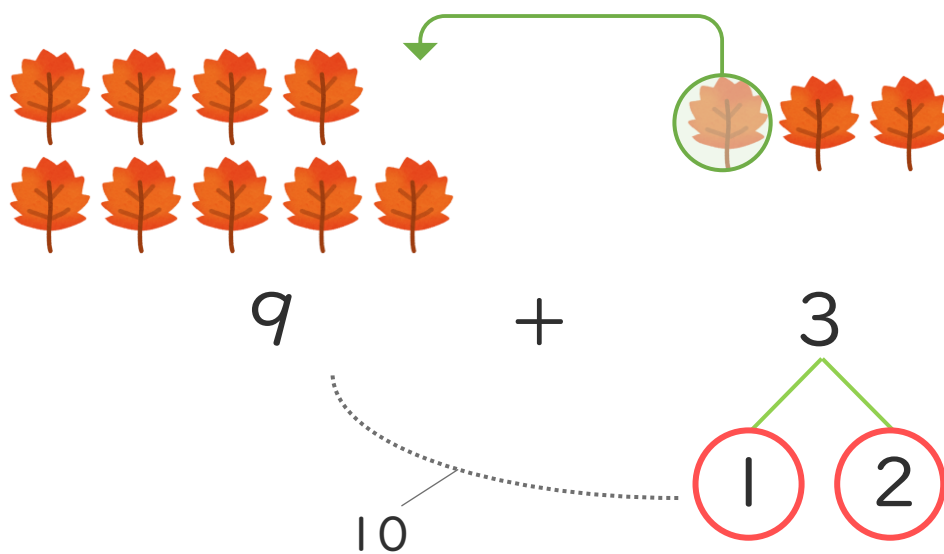
日にち： 月 日

名まえ _____

- ・ ゆうきさんは おちばを 9まい、たくやさんは 3まいひろいました。あわせてなんまいひろいましたか。



- ① けいさんのしかたをかんがえましょう。



- ② しきとこたえをかきましょう。(うすいじはなぞりましょう。)

しき $\left[9 + 3 = 12 \right]$

こたえ $\left[12 \text{まい} \right]$

