



あわせていくつ？

いろいろなかずのたしざん



日にち： 月 日

名まえ _____

・ たしざんをしましょう。(うすいじはなぞりましょう。)

① $4 + 1 =$

5

② $4 + 2 =$

6

③ $4 + 3 =$

--

④ $4 + 4 =$

--

⑤ $4 + 5 =$

--





あわせていくつ？

いろいろなかずのたしざん

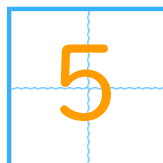


日にち： 月 日

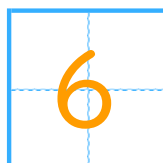
名まえ _____

・ たしざんをしましょう。(うすいじはなぞりましょう。)

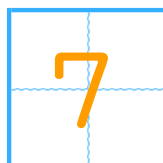
① $4 + 1 =$



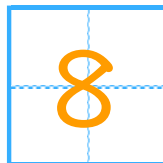
② $4 + 2 =$



③ $4 + 3 =$



④ $4 + 4 =$



⑤ $4 + 5 =$

