



くりさがりのある
ひきざん 8


● えとぶんしょうから
しきをつくろう



日にち： 月 日

名まえ _____

1 のこりは なんこですか。しきをかきましょう。
(うすいじはなぞりましょう。)




13こ

6こたべると

しき： $\boxed{13} - \boxed{6} = \boxed{\quad}$

2 のこりは なんこですか。しきをかきましょう。
(うすいじはなぞりましょう。)



11こ

3こたべると

しき： $\boxed{11} - \boxed{\quad} = \boxed{\quad}$





くりさがりのある
ひきざん 8


● えとぶんしょうから
しきをつくろう



日にち： 月 日

名まえ _____

1 のこりは なんこですか。しきをかきましょう。
(うすいじはなぞりましょう。)




13こ

6こたべると

しき： $\boxed{13} - \boxed{6} = \boxed{7}$

2 のこりは なんこですか。しきをかきましょう。
(うすいじはなぞりましょう。)



11こ

3こたべると

しき： $\boxed{11} - \boxed{3} = \boxed{8}$

