



のこりはいくつ！

● えをみてかんがえよう

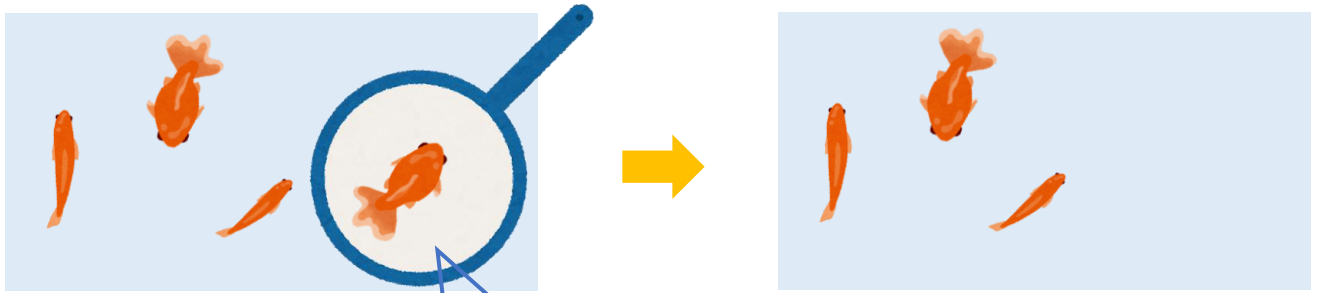


日にち： 月 日

名まえ _____

- きんぎょがいます。すくうとのこりはなんびきでしょう。
(うすいじはなぞりましょう。)

①

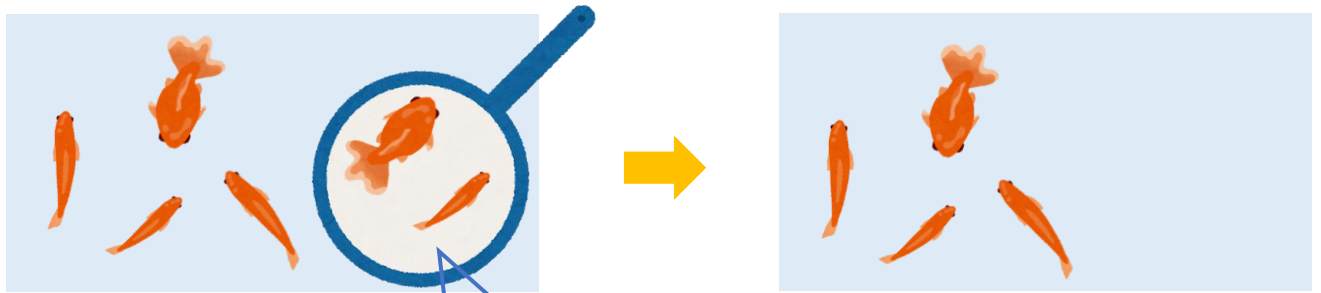


4 ひき
いる

1 ひき
すくう

3 ひき
のこり

②



ひき
いる

ひき
すくう

ひき
のこり





のこりはいくつ！

● えをみてかんがえよう




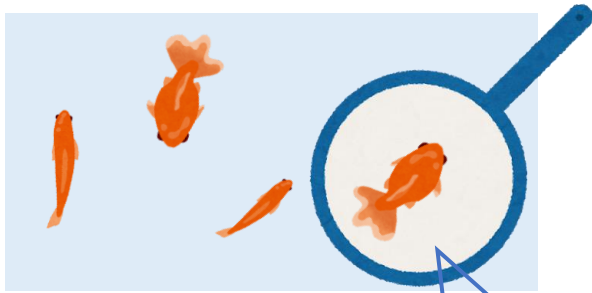
日にち： 月 日

名まえ _____

・ きんぎょがいます。すくうとのこりはなんびきでしょう。

(うすいじはなぞりましょう。)

①



4 ひき

いる

1 ひき


すくう

ひき

3 ひき

のこり

②



6 ひき

いる

2 ひき

すくう

ひき

4 ひき

のこり

