



10より おおきいかず 9

● おおきいかずは
どちらでしょう



日にち： 月 日

名まえ _____

- おおきいほうに○をつけましょう。(うすいじはなぞりましょう。)

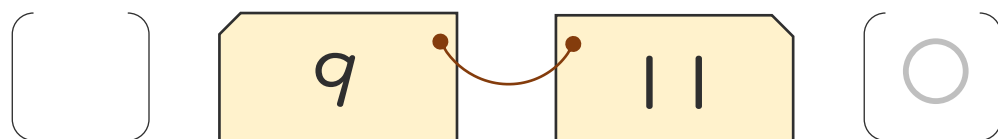
かずのせんをみながらやってみよう!



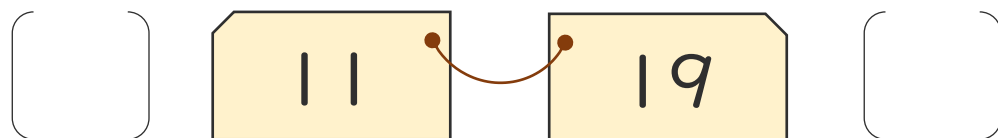
①

ちいさい ←

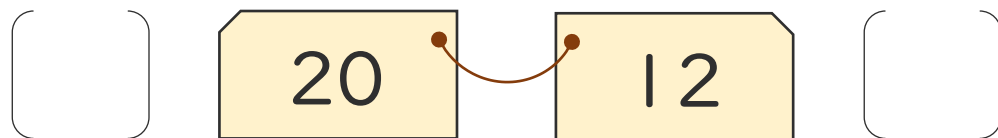
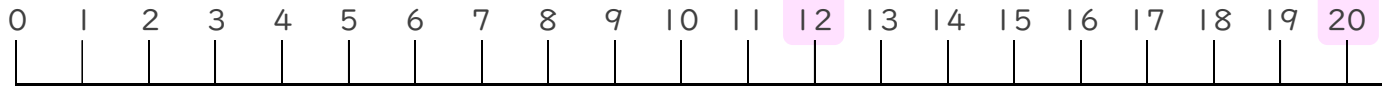
→ おおきい



②



③





10より
おおきいかず 9

● おおきいかずは
どちらでしょう



日にち： 月 日

名まえ _____

・ おおきいほうに ○ をつけましょう。(うすいじはなぞりましょう。)

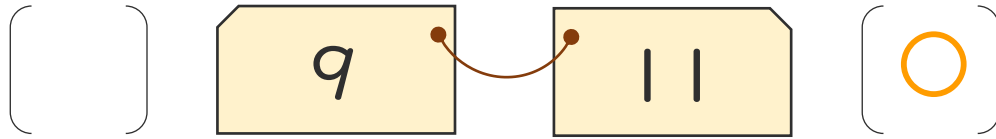
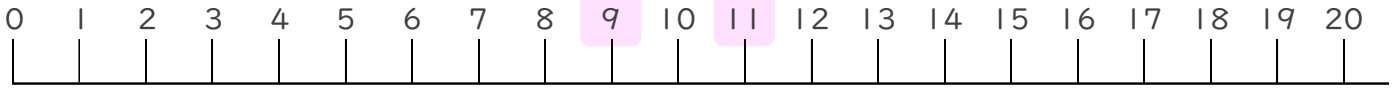
かずのせんをみながらやってみよう!



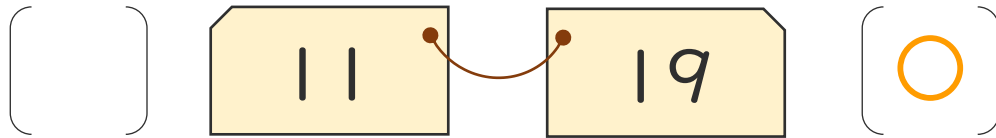
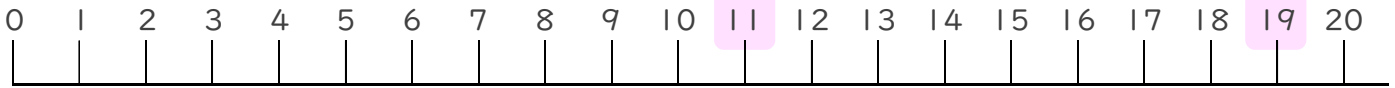
①

ちいさい ←

→ おおきい



②



③

