

くりあがりのある
たしざん 5

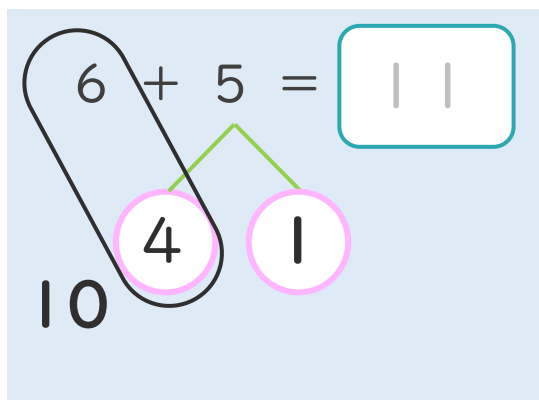
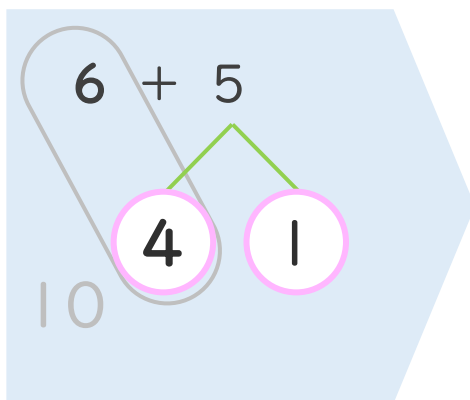
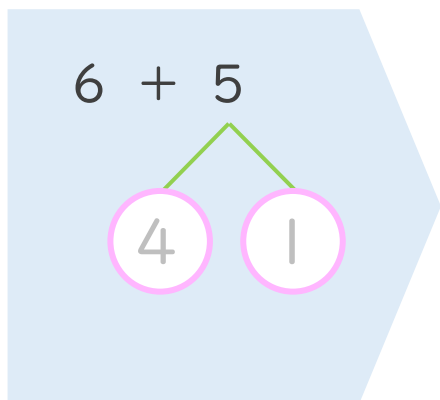
● くりあがりのけいさん
(6や5とたす)



日にち： 月 日

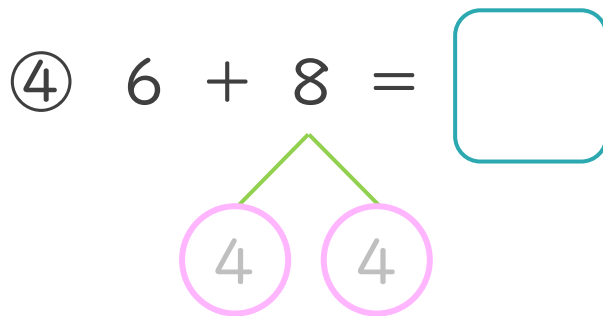
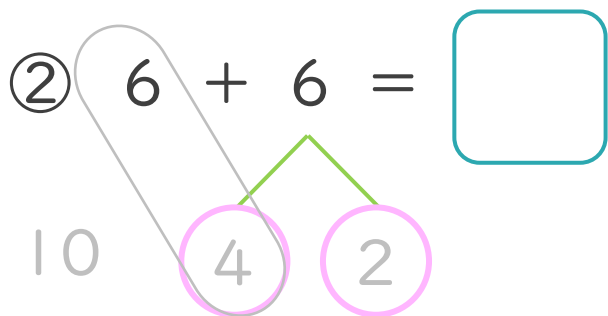
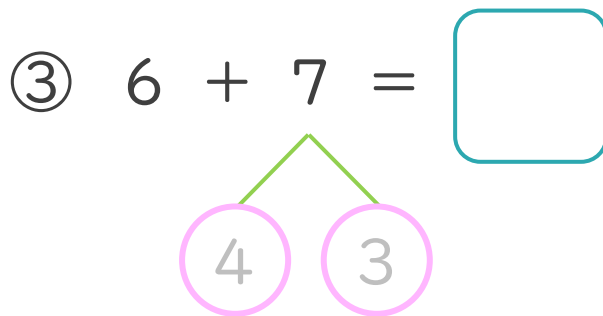
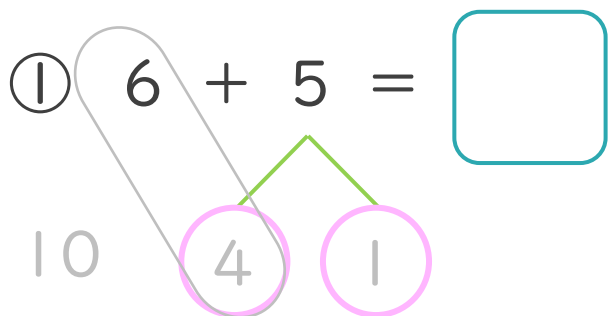
名まえ _____


< 6 + 5 の けいさんの しかた > (うすいじはなぞりましょう。)



- ① 5を
4と1に
わけます。
- ② 6に4を
たして10。
- ③ 10と1で11。

・ けいさんをしましょう。(うすいじはなぞりましょう。)





くりあがりのある
たしざん 5

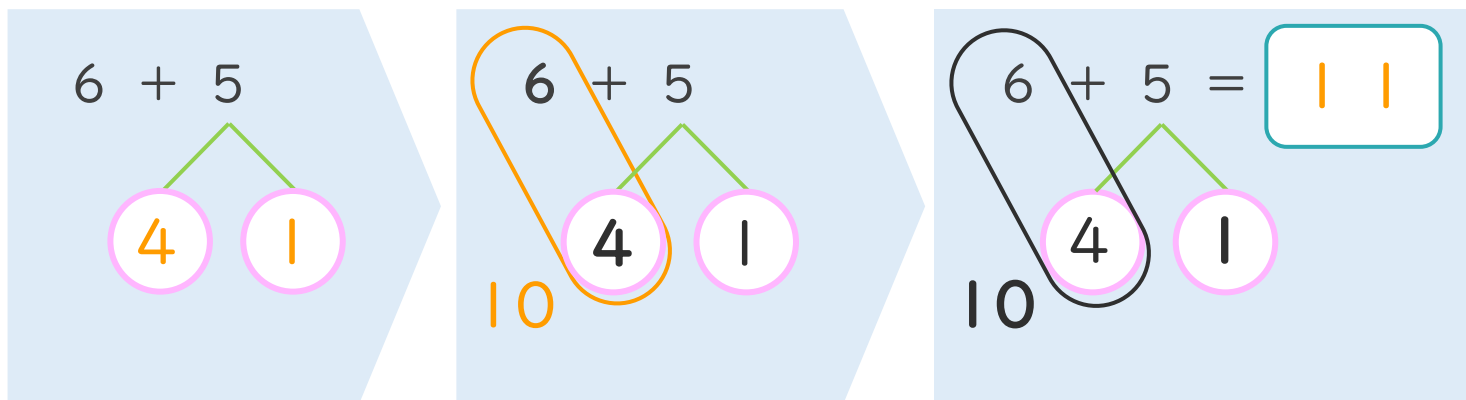
● くりあがりのけいさん
(6や5とたす)



日にち： 月 日

名まえ _____

< 6 + 5 の けいさんの しかた > (うすいじはなぞりましょう。)



- ① 5を
4と1に
わけます。
- ② 6に4を
たして10。
- ③ 10と1で11。

・ けいさんを しましょう。(うすいじはなぞりましょう。)

① $6 + 5 = 11$

10 4 1

③ $6 + 7 = 13$

10 4 3

② $6 + 6 = 12$

10 4 2

④ $6 + 8 = 14$

10 4 4

