



くりあがりのある
たしざん 4

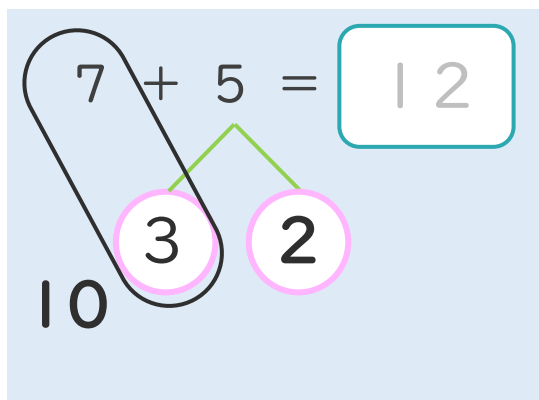
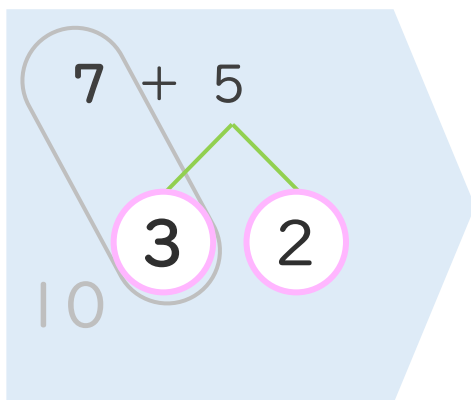
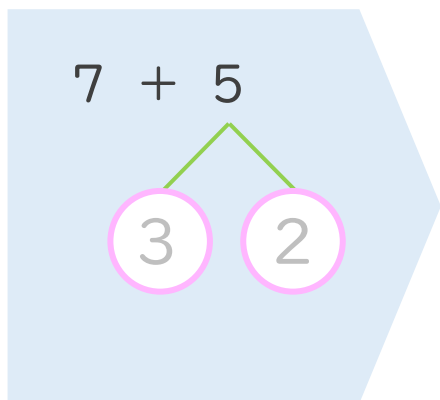
● くりあがりのけいさん
(7とたす)



日にち： 月 日

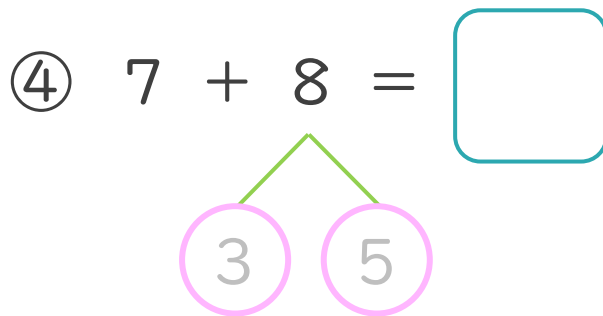
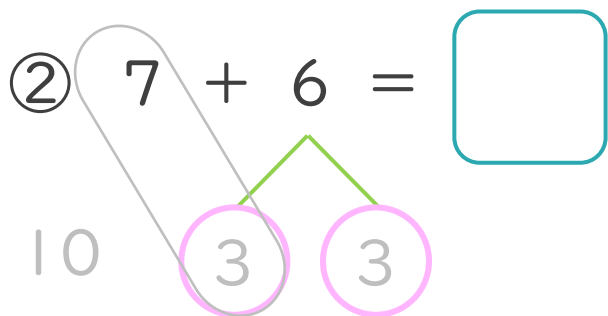
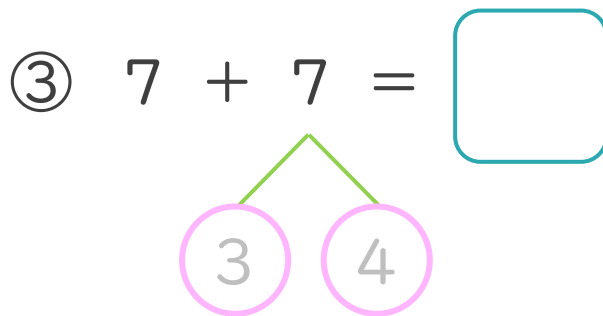
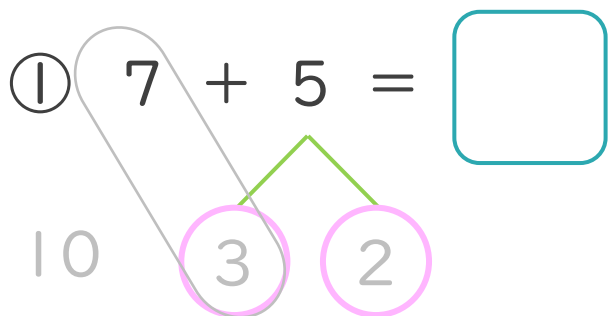
名まえ _____

< 7 + 5 の けいさんの しかた > (うすいじはなぞりましょう。)



- ① 5を
3と2に
わけます。
- ② 7に3を
たして10。
- ③ 10と2で12。

・ けいさんをしましょう。(うすいじはなぞりましょう。)





くりあがりのある たしざん 4

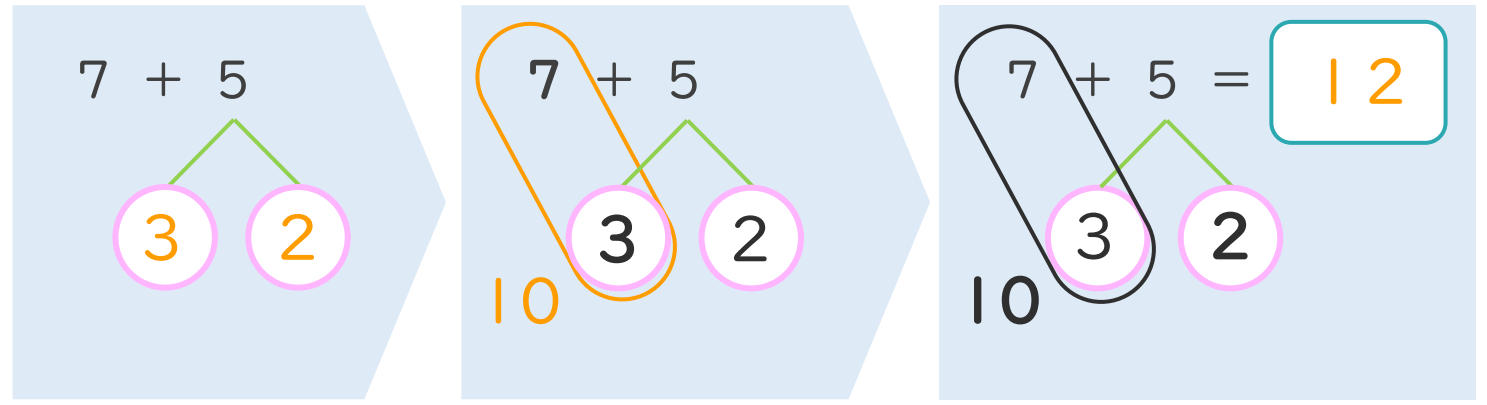
● くりあがりのけいさん
(7とたす)



日にち： 月 日

名まえ _____

< 7 + 5 の けいさんの しかた > (うすいじはなぞりましょう。)



- ① 5を
3と2に
わけます。
- ② 7に3を
たして10。
- ③ 10と2で12。

・ けいさんをしましょう。(うすいじはなぞりましょう。)

