



くりさがりのある
ひきざん 6

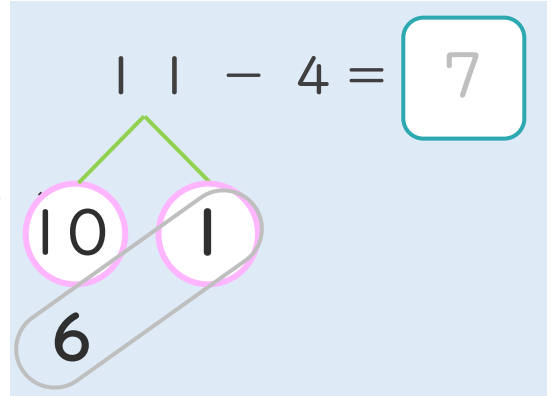
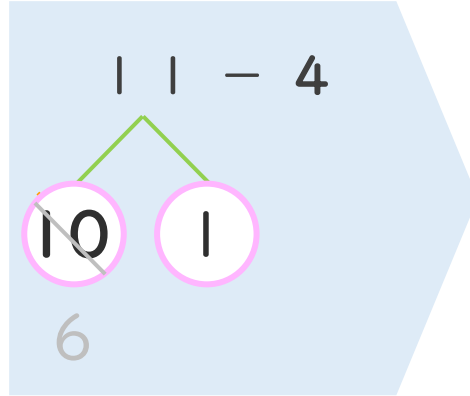
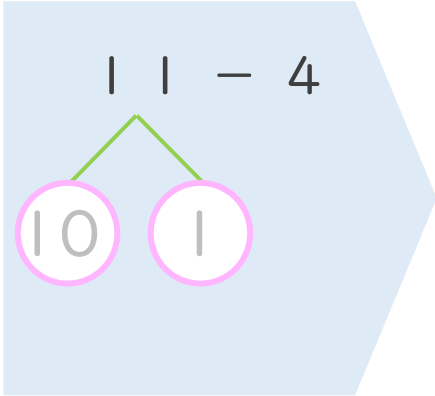
● くりさがりのけいさん
(4や3をひく)



日にち： 月 日

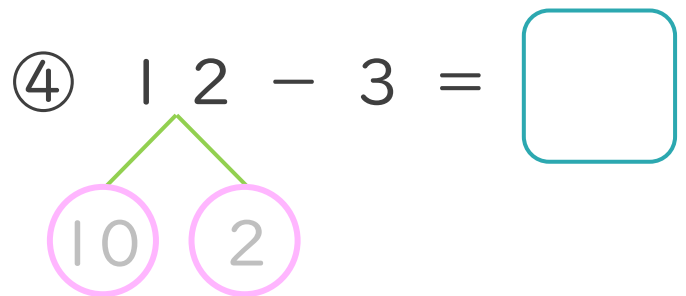
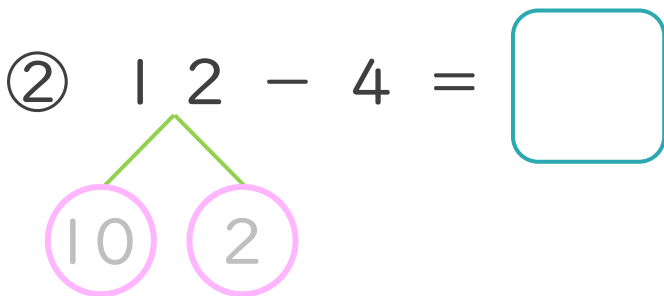
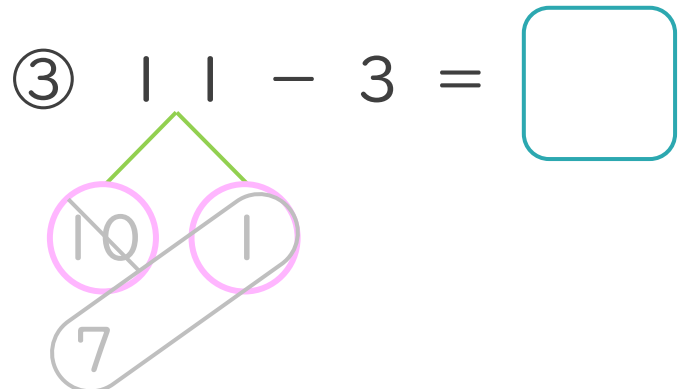
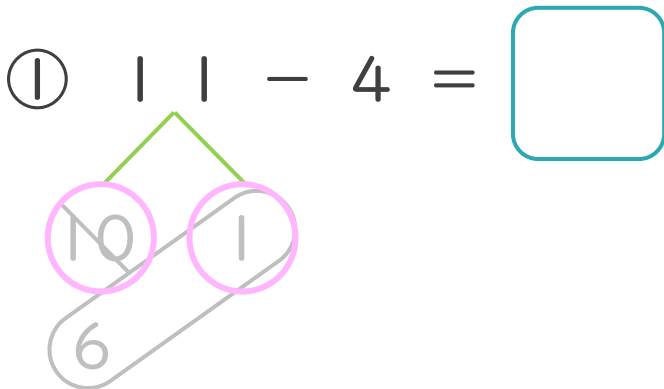
名まえ _____

< 11 - 4 の けいさんの しかた > (うすいじはなぞりましょう。)



- ① 11を
10と1に
わけます。
- ② 10から4を
ひいて6。
- ③ 6と1で7。

・ けいさんを しましょう。(うすいじはなぞりましょう。)





くりさがりのある
ひきざん 6

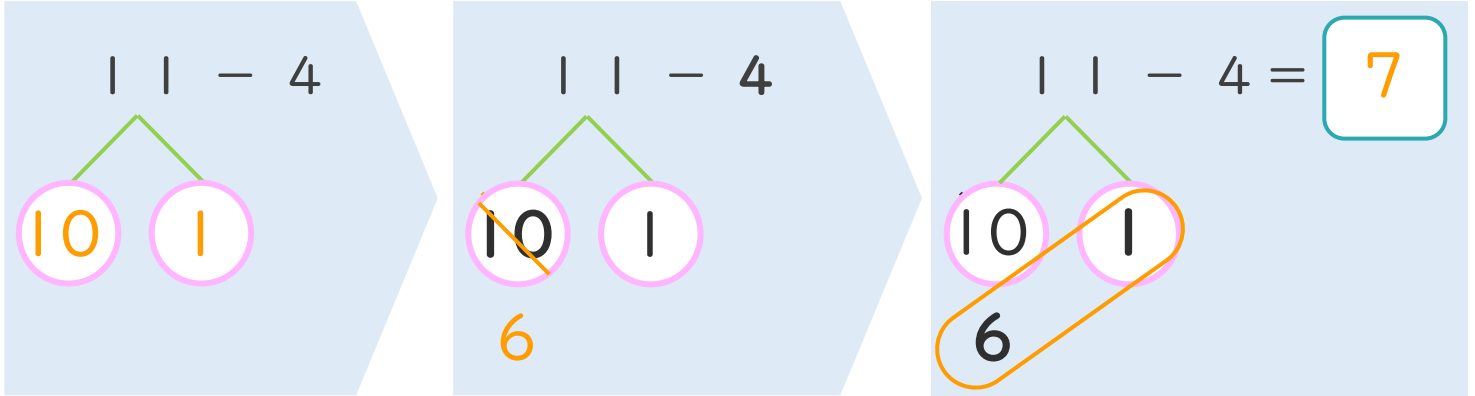
● くりさがりのけいさん
(4や3をひく)



日にち： 月 日

名まえ _____

< 11 - 4 の けいさんの しかた > (うすいじはなぞりましょう。)



- ① 11を
10と1に
わけます。
- ② 10から4を
ひいて6。
- ③ 6と1で7。

・ けいさんを しましょう。(うすいじはなぞりましょう。)

① 11 - 4 = 7

③ 11 - 3 = 8

② 12 - 4 = 8

④ 12 - 3 = 9

