



くりあがりのある
たしざん 10

● けいさんのしかたを
かんがえよう

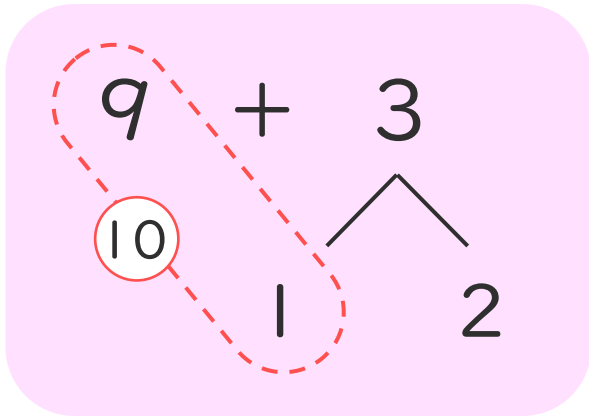


日にち： 月 日

名まえ _____

- ・ $9 + 3$ のけいさんのしかたをかんがえます。

にあうかずをかきましょう。(うすいじはなぞりましょう。)



① 9はあと で 10。

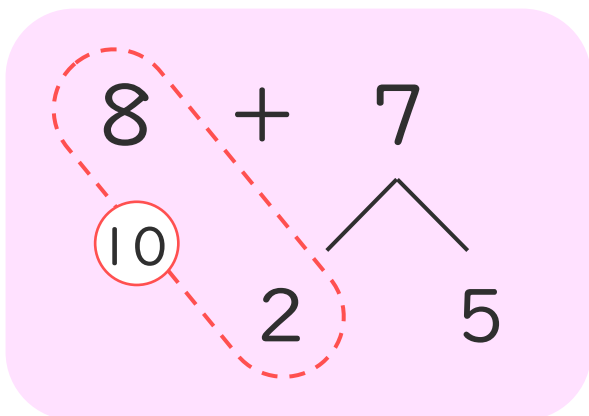
② 3を と 2にわける。

③ 9に をたして 10。

④ 10と で 12。

- ・ $8 + 7$ のけいさんをします。

にあうかずをかきましょう。(うすいじはなぞりましょう。)



① 8はあと で 10。

② 5を と 5にわける。

③ 8に をたして 10。

④ 10と で 15。





くりあがりのある
たしざん 10

● けいさんのしかたを
かんがえよう

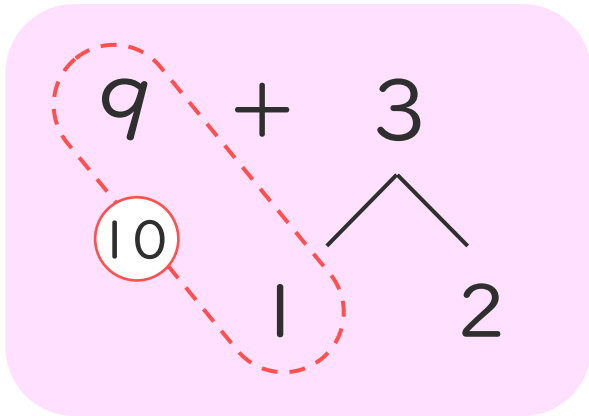


日にち： 月 日

名まえ _____

- ・ $9 + 3$ のけいさんのしかたをかんがえます。

にあうかずをかきましょう。(うすいじはなぞりましょう。)



① 9はあと で10。

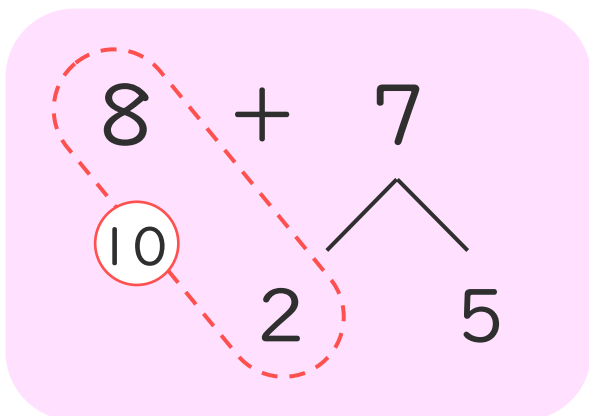
② 3を と2にわける。

③ 9に をたして10。

④ 10と で12。

- ・ $8 + 7$ のけいさんをします。

にあうかずをかきましょう。(うすいじはなぞりましょう。)



① 8はあと で10。

② 5を と5にわける。

③ 8に をたして10。

④ 10と で15。

