



くりあがりのある  
たしざん 10

● けいさんのしかたを  
かんがえよう

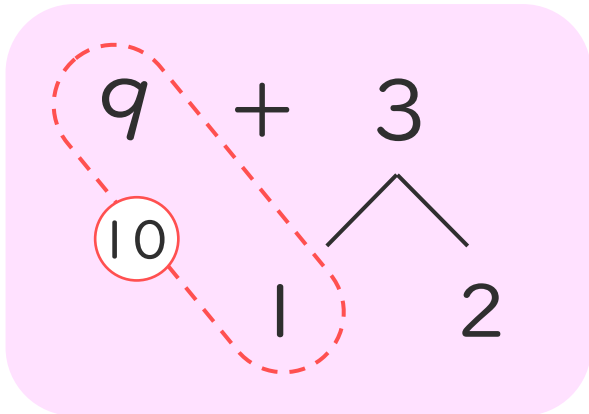


日にち： 月 日

名まえ \_\_\_\_\_

- ・  $9 + 3$  のけいさんのしかたをかんがえます。

にあうかずをかきましょう。(うすいじはなぞりましょう。)



① 9はあと  で 10。

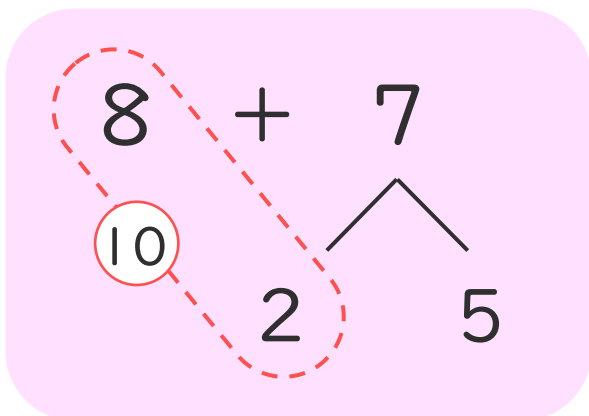
② 3を  と 2にわける。

③ 9に  をたして 10。

④ 10と  で 12。

- ・  $8 + 7$  のけいさんをします。

にあうかずをかきましょう。(うすいじはなぞりましょう。)



① 8はあと  で 10。

② 7を  と 5にわける。

③ 8に  をたして 10。

④ 10と  で 15。





くりあがりのある  
たしざん 10

● けいさんのしかたを  
かんがえよう

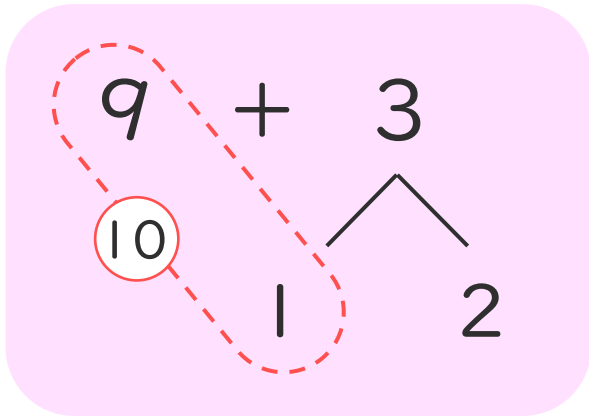


日にち：            月            日

名まえ \_\_\_\_\_

- ・  $9 + 3$  のけいさんのしかたをかんがえます。

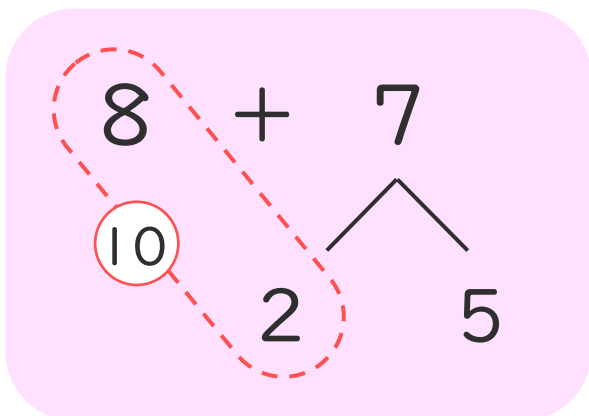
にあうかずをかきましょう。(うすいじはなぞりましょう。)



- ① 9はあと  で10。
- ② 3を  と2にわける。
- ③ 9に  をたして10。
- ④ 10と  で12。

- ・  $8 + 7$  のけいさんをします。

にあうかずをかきましょう。(うすいじはなぞりましょう。)



- ① 8はあと  で10。
- ② 7を  と5にわける。
- ③ 8に  をたして10。
- ④ 10と  で15。

