



あわせていくつ？

◎ たしざんの しきの かきかた




日にち： 月 日

名まえ _____

- みかんをあわせるとぜんぶでなんこになりますか。(うすいじはなぞりましょう。)

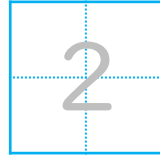
あわせる

ぜんぶで



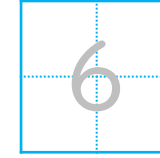
こ

と



こ

で




こ

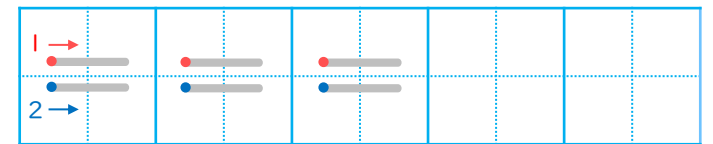
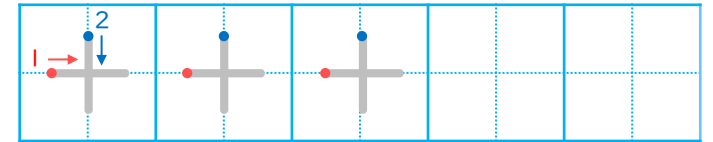
たす

は

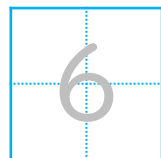
しき



▼ れんしゅうしよう！



こたえ



こ





あわせていくつ？

◎ たしざんの しきの かきかた



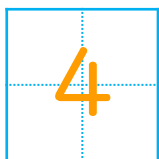
日にち： 月 日

名まえ _____

- みかんをあわせるとぜんぶでなんこになりますか。(うすいじはなぞりましょう。)

あわせる

ぜんぶで



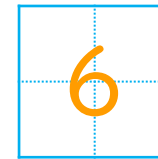
こ

と



こ

で



こ

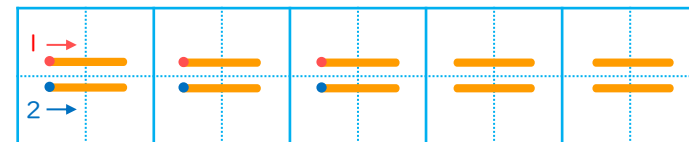
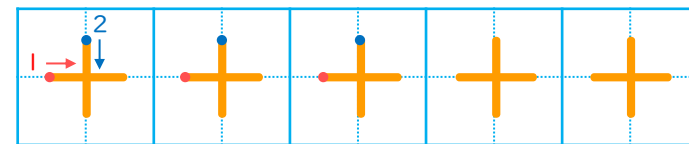
たす

は

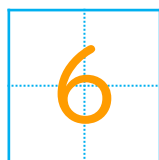
しき

4	+	2	=	6
---	---	---	---	---

▼ れんしゅうしよう！



こたえ



こ

