



あわせていくつ3

◎ たしざんのしきをつくろう



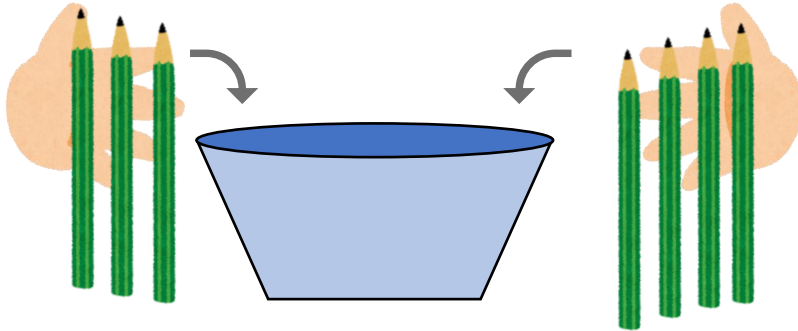
日にち： 月 日

名まえ _____

・ しきにかいて こたえましょう。(うすいじはなぞりましょう。)

① えんぴつを 3ぼんと 4ほん いれます。

あわせて なんぼん になりますか。



しき


3	+	4	=		
---	---	---	---	--	--

こたえ

 ほん

② はなが 6ぼんと 3ぼん あります。

ぜんぶで なんぼん ありますか。



しき

		+					

こたえ

 ほん





あわせていくつ3

◎ たしざんのしきをつくろう



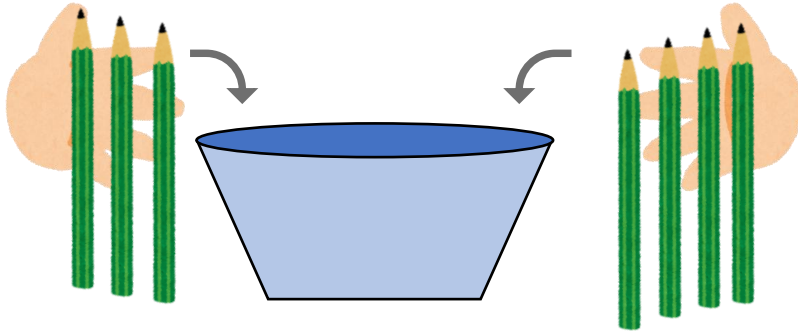
日にち： 月 日

名まえ _____

・ しきにかいて こたえましょう。(うすいじはなぞりましょう。)

① えんぴつを 3ぼんと 4ほん いれます。

あわせて なんぼん になりますか。




しき $3 + 4 = 7$

こたえ 7 ほん

② はなが 6ぼんと 3ぼん あります。

ぜんぶで なんぼん ありますか。



しき $6 + 3 = 9$

こたえ 9 ほん

