



3つの かずのけいさん 3

たしざんとひきざんの
まざったしき



日にち： 月 日

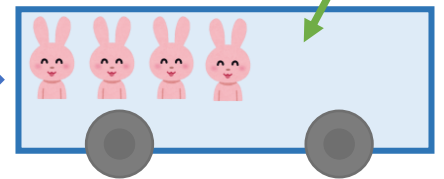
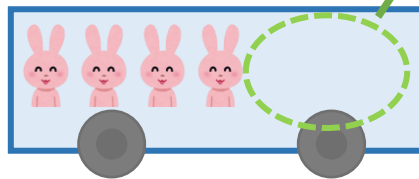
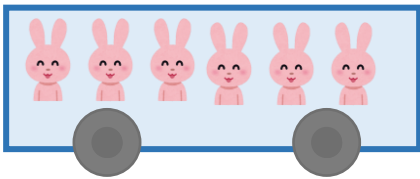
名まえ _____

うさぎは、なんびきになりましたか。(うすいじはなぞりましょう。)

6びきのっています。

2ひきおりました。

1びきのりました。



☆1つのしきにあらわしてみましよう。

しき： $6 - 2 + 1 = \square$

4

こたえ： ひき



3つの かずのけいさん 3

たしざんとひきざんの
まざったしき



日にち： 月 日

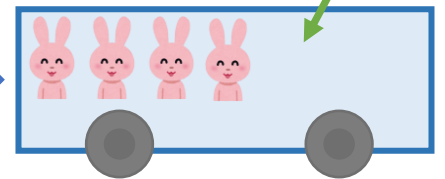
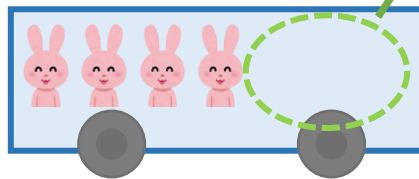
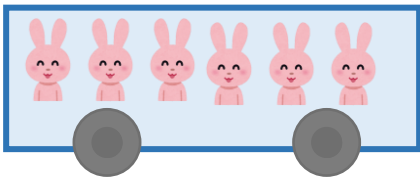
名まえ _____

うさぎは、なんびきになりましたか。(うすいじはなぞりましょう。)

6びきのっています。

2ひきおりました。

1びきのりました。



☆1つのしきにあらわしてみましよう。

しき： $6 - 2 + 1 = 5$

4

こたえ： 5 ひき