



のこりはいくつ？

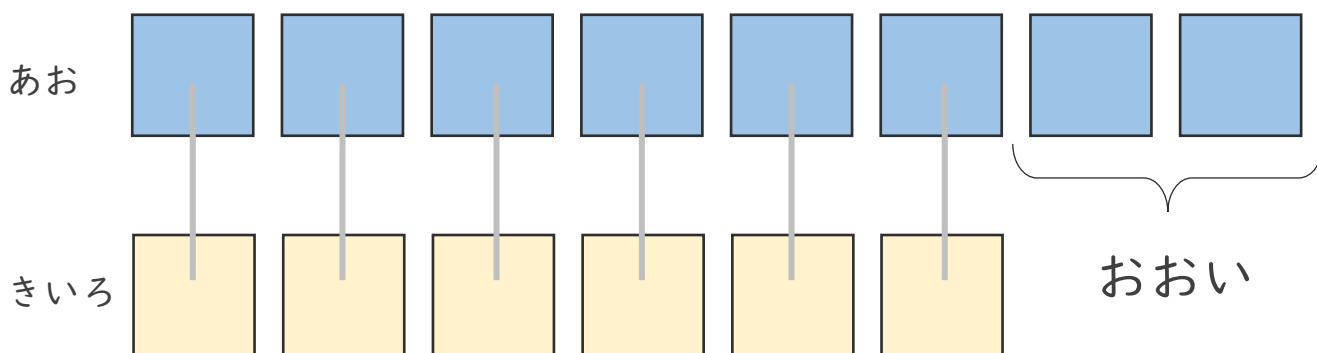
ちがいはいくつ？  
(きゅうさ)





日にち： 月 日

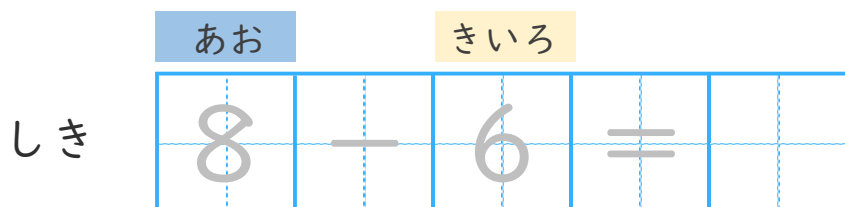
名まえ \_\_\_\_\_


- ・ あおのおりがみが 8まいあります。  
きいろのおりがみが 6まいあります。  
あおのおりがみは、きいろのおりがみよりなんまい  
おおいでしょうか。(うすいじはなぞりましょう。)



うえの  としたの  を  
せんでおすんでみよう。

ちがいを もとめる ときも  
ひきざんをつかうよ！



こたえ  まい





のこりはいくつ？

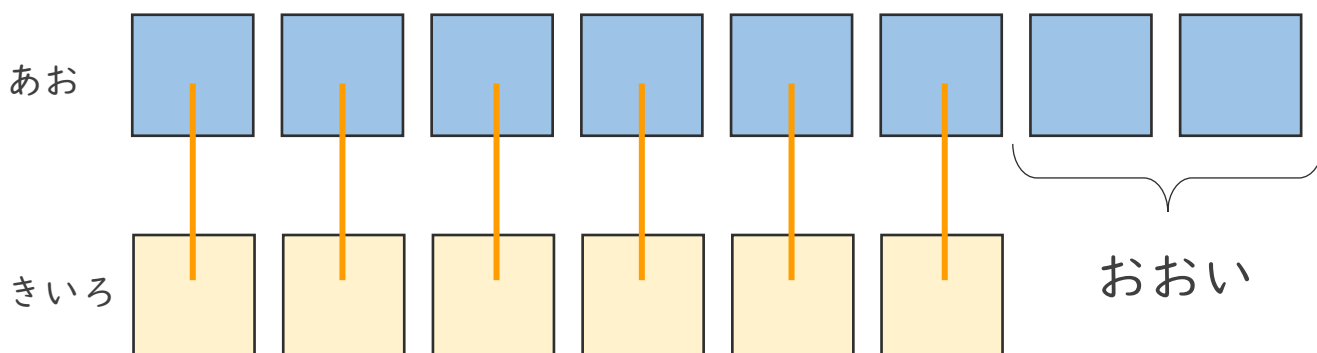
ちがいはいくつ？  
(きゅうさ)






日にち： 月 日

名まえ \_\_\_\_\_

- ・ あおのおりがみが 8まいあります。  
きいろのおりがみが 6まいあります。  
あおのおりがみは、きいろのおりがみよりなんまい  
おおいでしょうか。(うすいじはなぞりましょう。)



 うえの  としたの  を  
せんでおすんでみよう。

ちがいを もとめる ときも  
ひきざんをつかうよ！



あお                      きいろ

しき

8	-	6	=	2
---	---	---	---	---

こたえ  まい

