



のこりはいくつ？

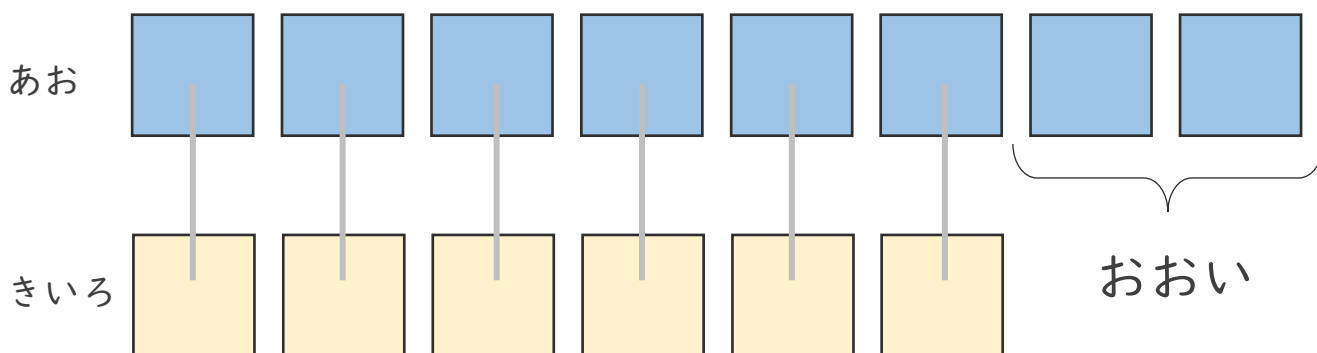
ちがいはいくつ？  
(きゅうさ)






日にち： 月 日

名まえ \_\_\_\_\_

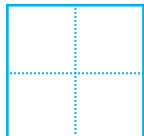
- ・ あおのおりがみが 8まいあります。  
きいろのおりがみが 6まいあります。  
あおのおりがみは、きいろのおりがみよりなんまい  
おおいでしょうか。(うすいじはなぞりましょう。)



 うえの  としたの  を  
せんでおすんでみよう。

ちがいを もとめる ときも  
ひきざんをつかうよ！



こたえ  まい





のこりはいくつ？

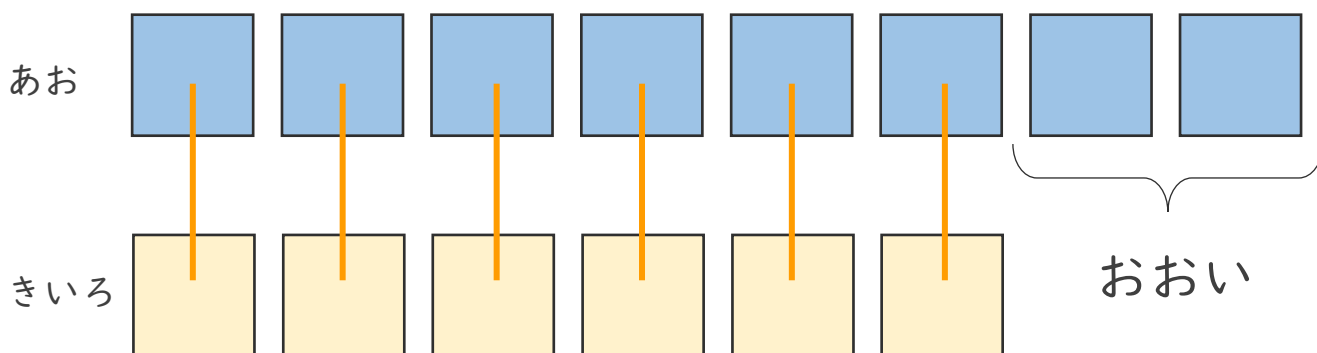
ちがいはいくつ？  
(きゅうさ)



日にち： 月 日

名まえ \_\_\_\_\_

- ・ あおのおりがみが 8まい あります。  
きいろのおりがみが 6まい あります。  
あおのおりがみは、きいろのおりがみより なんまい  
おおいでしょうか。(うすいじはなぞりましょう。)



うえの としたの を  
せんでおすんでみよう。

ちがいを もとめる ときも  
ひきざんをつかうよ！



あお きいろ

しき

$$8 - 6 = 2$$

こたえ まい

