

なんじなんぶん 2

とけいのよみとり
(おおきなめもり)

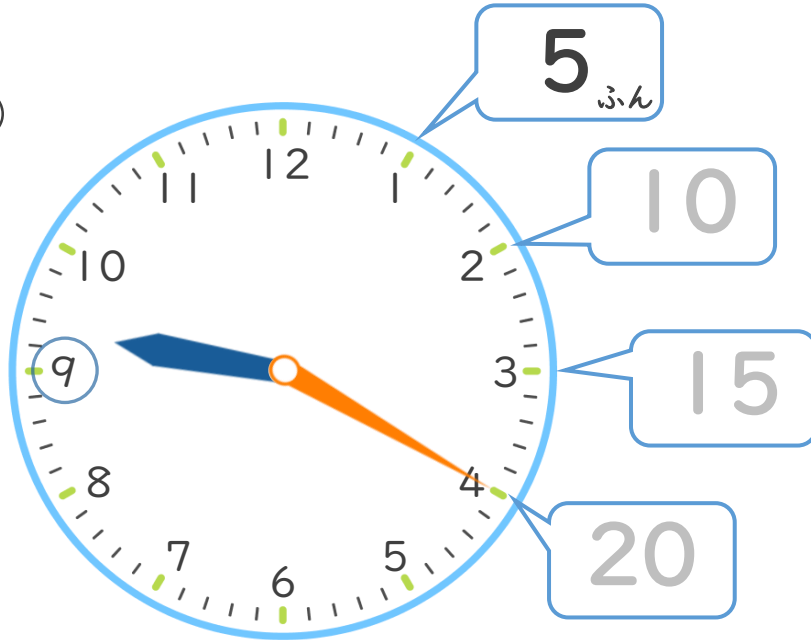


日にち： 月 日

名まえ _____

- とけいをよみましょう。(うすいもじはなぞりましょう。)

①




9じ20ぶん

②



5じ15ぶん





なんじなんぶん 2

とけいのよみとり
(おおきなめもり)

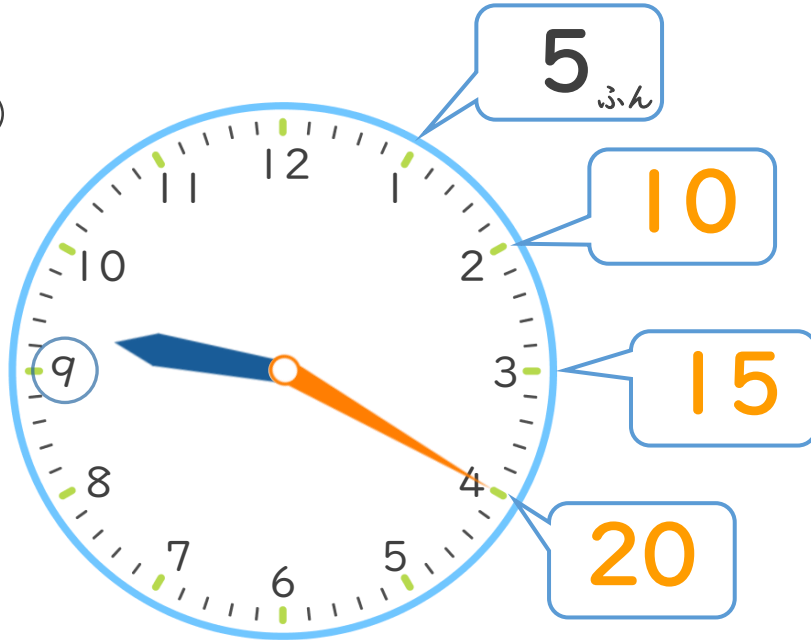


日にち： 月 日

名まえ _____

- とけいをよみましょう。(うすいもじはなぞりましょう。)

①



9じ20ぶん

②



5じ15ぶん

