



のこりはいくつ 3

◎ のこりはいくつ?
(きゅうざん)




日にち： 月 日

名まえ _____

・ しきにかいて こたえましょう。(うすいじはなぞりましょう。)

① はなが 4ほん あります。1ほん あげました。
のこりは なんほん になりましたか。



しき


| | | | | | |
|---|---|--|---|--|--|
| 4 | — | | = | | |
|---|---|--|---|--|--|

こたえ

| | |
|--|--|
| | |
| | |

ほん

② ふうせんが 6こ あります。2こ とんでいきました。
のこりは なんこ になりましたか。



しき

| | | | | | |
|--|---|--|---|--|--|
| | | | | | |
| | — | | = | | |

こたえ

| | |
|--|--|
| | |
| | |

こ



のこりはいくつ 3

◎ のこりはいくつ?
(きゅうざん)




日にち： 月 日

名まえ _____

・ しきにかいて こたえましょう。(うすいじはなぞりましょう。)


- ① はなが 4ほん あります。1ほん あげました。
のこりは なんほん になりましたか。



しき $4 - 1 = 3$

こたえ 3 ほん

- ② ふうせんが 6こ あります。2こ とんでいきました。
のこりは なんこ になりましたか。



しき $6 - 2 = 4$

こたえ 4 こ

