



くりさがりのある  
ひきざん！


のこりはいくつ？  
(えをみてかんがえよう)



日にち： 月 日

名まえ \_\_\_\_\_

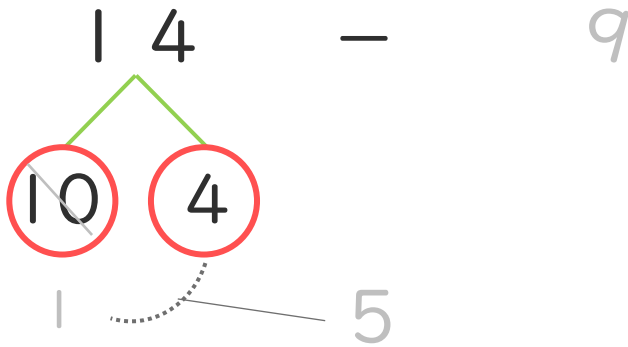

- どんぐりが 14こ あります。ともだちに 9こ あげました。どんぐりは、なんこのこっていますか。(うすいじはなぞりましょう。)



9こ あげる



- ① けいさんのしかたをかんがえましょう。



① 14は10と4

② 10 - 9 = 1

③ 1 + 4 = 5

- ② しきとこたえをかきましょう。

しき  $( 14 - 9 = )$

こたえ  $( \quad \quad )$





# くりさがりのある ひきざん！


● のこりはいくつ？  
(えをみてかんがえよう)



日にち：            月            日

名まえ \_\_\_\_\_

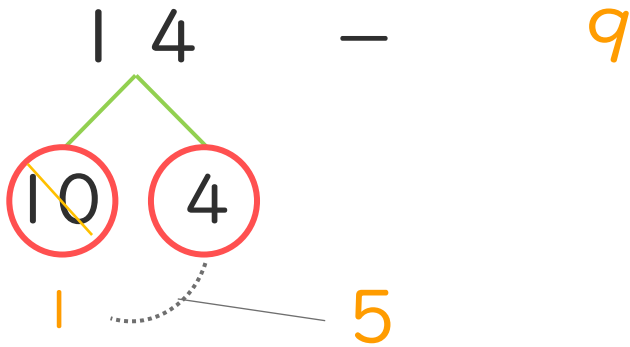

- どんぐりが 14こ あります。ともだちに 9こ あげました。どんぐりは、なんこのこっていますか。(うすいじはなぞりましょう。)



9こ あげる



- ① けいさんのしかたをかんがえましょう。



① 14は10と4

② 10 - 9 = 1

③ 1 + 4 = 5

- ② しきとこたえをかきましょう。

しき  $\left[ 14 - 9 = 5 \right]$

こたえ  $\left[ 5こ \right]$

