



のこりはいくつ？ 2



しきをつくろう



日にち： 月 日

名まえ _____

- とりが 5 羽とまっていた。3 羽とんでいきました。
のこりはなん羽でしょう。(うすいじはなぞりましょう。)



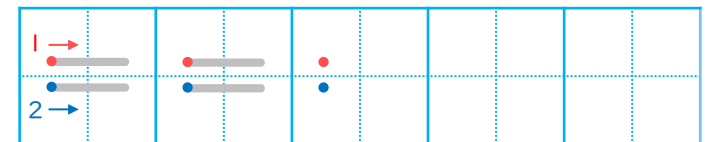
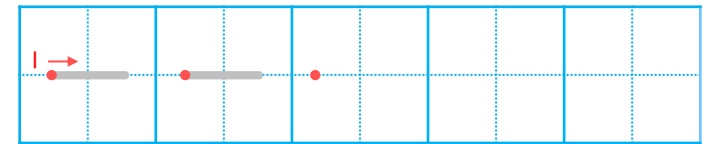
しき

	ひく		は	
5	—	3	=	2

こたえ

 わ

▼ れんしゅうしよう！



すらすらぷりんと



のこりはいくつ？ 2



しきをつくろう



日にち： 月 日

名まえ _____

- とりが 5 羽とまっていた。3 羽とんでいきました。
のこりはなん羽でしょう。(うすいじはなぞりましょう。)

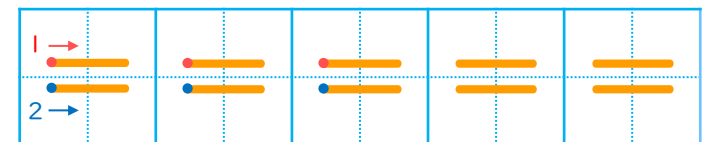
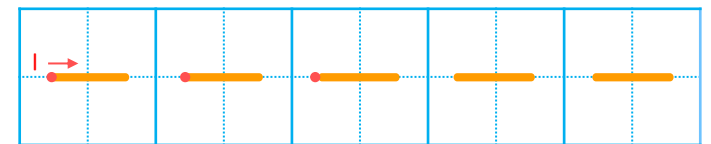


しき

	ひく		は	
5	-	3	=	2

こたえ 2 わ

▼ れんしゅうしよう！



すらすらぷりんと