



どちらがおおい 2

● はいっているみずが
おおいじゅんばん

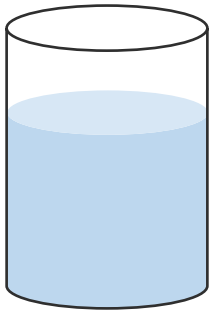


日にち： 月 日

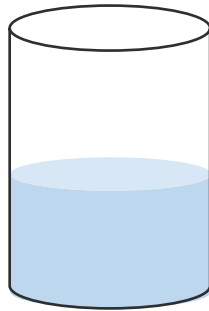
名まえ _____

- ・ はいっているみずが おおいじゅんに 1, 2, 3 をかきましょう。(うすいじはなぞりましょう。)

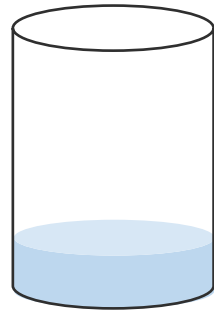
①



(1)

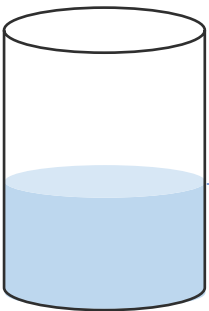


(2)

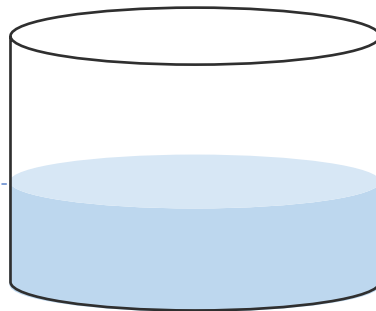


()

②



()



(1)



()





どちらがおおい 2

● はいっているみずが
おおいじゅんばん

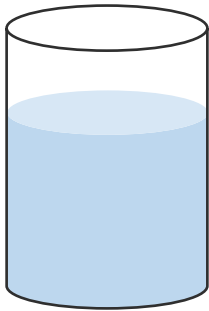


日にち： 月 日

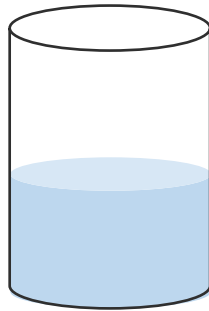
名まえ _____

- ・ はいっているみずがおおいじゅんに 1, 2, 3をかきましょう。(うすいじはなぞりましょう。)

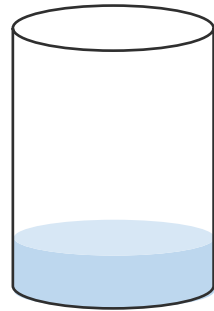
①



(1)

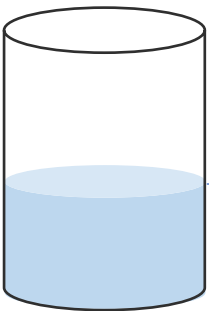


(2)

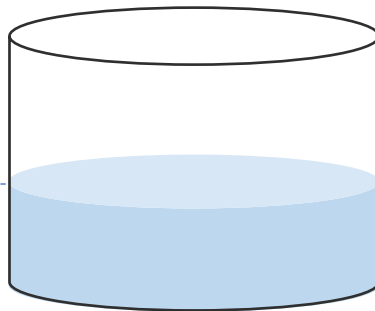


(3)


②



(2)



(1)



(3)

