




どちらがおおい③

● コップでなんばい
はいりますか？




日にち： 月 日


名まえ _____

・ みずが  のかずだけはいります。(うすいじはなぞりましょう。)


あ




い




う



①  でなんばいはいりますか。

あ... はい い... はい う... はい

② あといででは、どちらがどれだけおおくはいりますか。

のほうが、 で はいぶんおおくはいる。

③ いとうでは、どちらがどれだけおおくはいりますか。

のほうが、 で はいぶんおおくはいる。






どちらがおおい③

● コップでなんばい
はいりますか？




日にち： 月 日


名まえ _____

・ みずが  のかずだけはいります。(うすいじはなぞりましょう。)


あ




い



う



①  でなんばいはいりますか。

あ... **5** はい い... **3** はい う... **8** はい

② あといで、どちらがどれだけおおくはいりますか。

あのほうが、 で **2** はいぶんおおくはいる。

③ いとうでは、どちらがどれだけおおくはいりますか。

うのほうが、 で **5** はいぶんおおくはいる。

