



おおきいかず 14

十のたばのたしざん

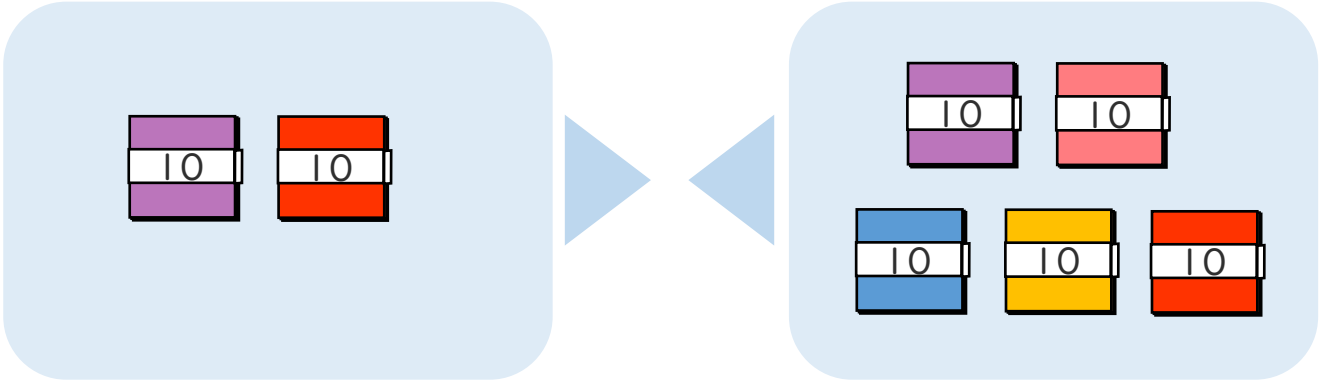


日にち： 月 日

名まえ _____

・ □ にかずをかきましょう。(うすいじはなぞりましょう。)

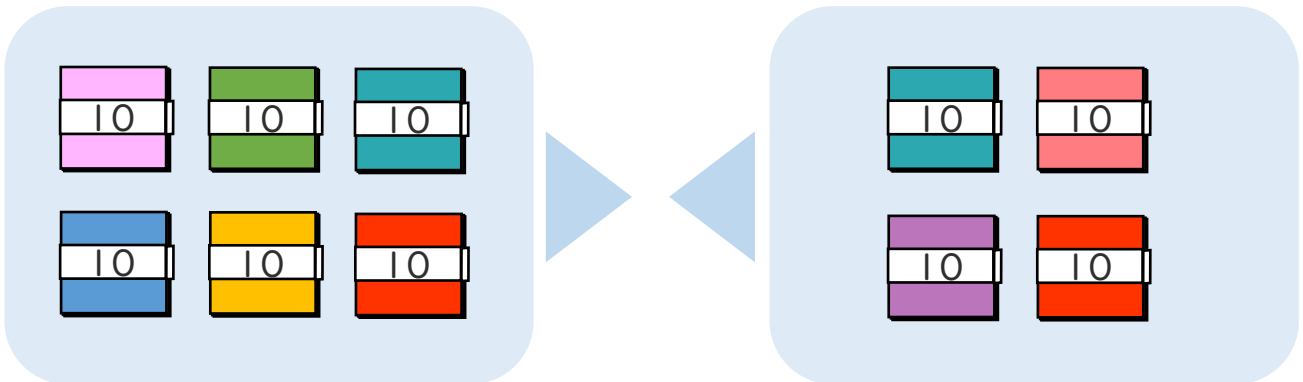
① 20+50の こたえはいくつですか。



10のたばが + = で こだから

$$20 + 50 = \boxed{70}$$

② 60+40の こたえはいくつですか。



10のたばが + = で こだから

$$60 + 40 = \boxed{100}$$





おおきいかず 14

十のたばのたしざん

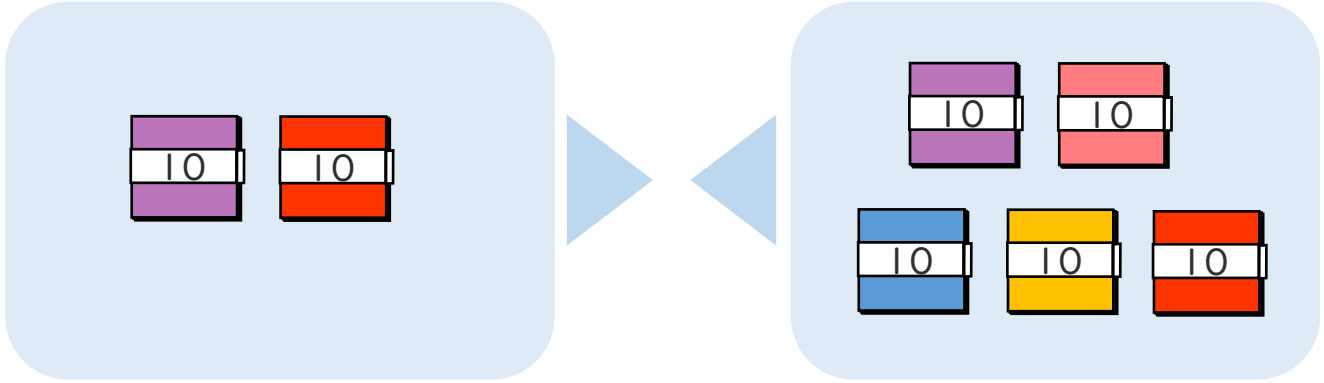


日にち： 月 日

名まえ _____

・ □ にかずをかきましょう。(うすいじはなぞりましょう。)

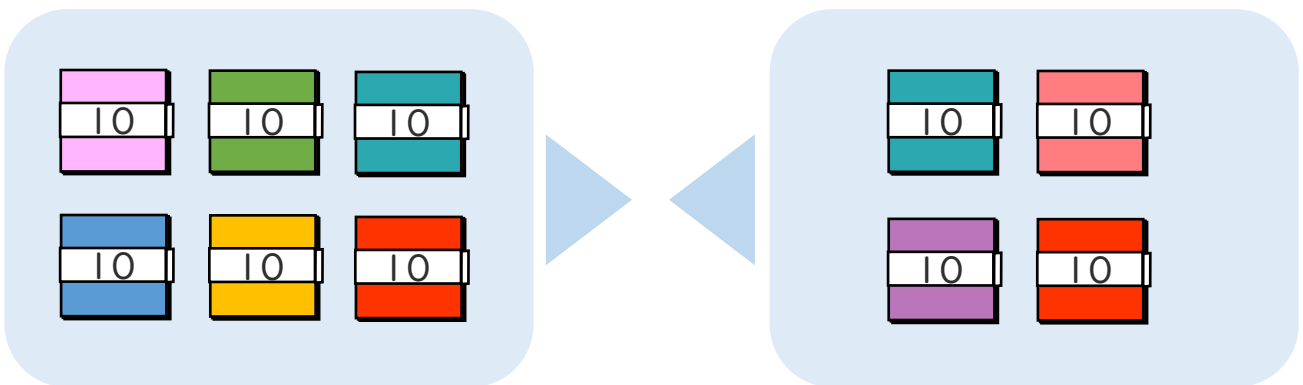
① $20 + 50$ の こたえは いくつですか。



10のたばが $2 + 5 = 7$ で 7 こだから

$$20 + 50 = 70$$

② $60 + 40$ の こたえは いくつですか。



10のたばが $6 + 4 = 10$ で 10 こだから

$$60 + 40 = 100$$

