



# おおきいかず 17

十のたばのひきざん

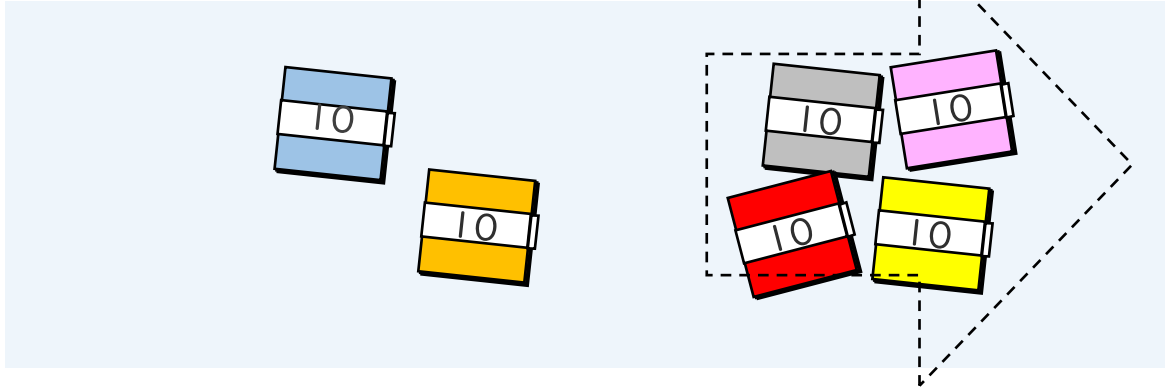


日にち：            月            日

名まえ \_\_\_\_\_

・ □ にかずをかきましょう。(うすいじはなぞりましょう。)

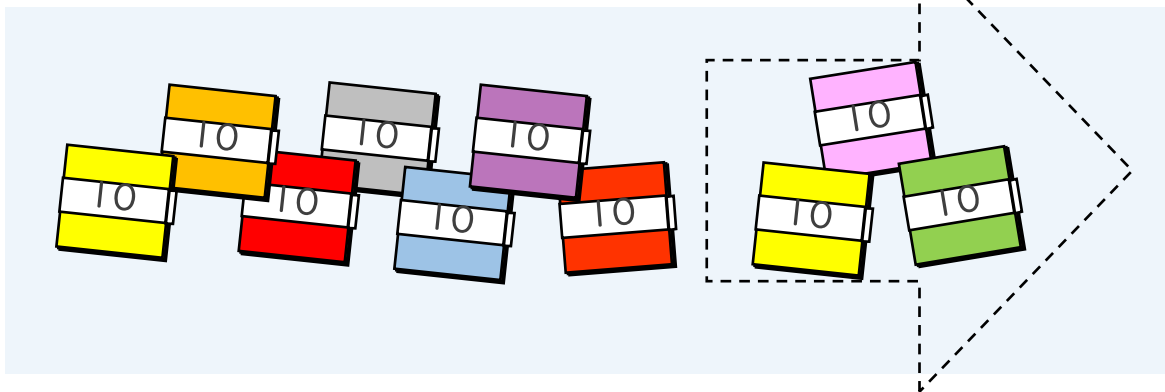
①  $60 - 40$  の こたえは いくつですか。



10のたばが  $6 - 4 = 2$  で  $2$  こだから

$$60 - 40 = 20$$

②  $100 - 30$  の こたえは いくつですか。



10のたばが  $10 - 3 = \square$  で  $\square$  こだから

$$100 - 30 = \square$$





# おおきいかず 17

十のたばのひきざん

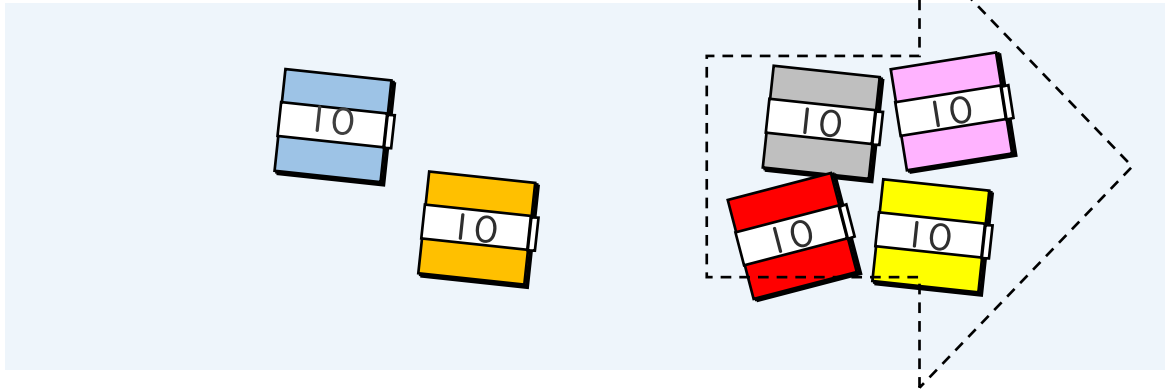


日にち：      月      日

名まえ \_\_\_\_\_

・ □ にかずをかきましょう。(うすいじはなぞりましょう。)

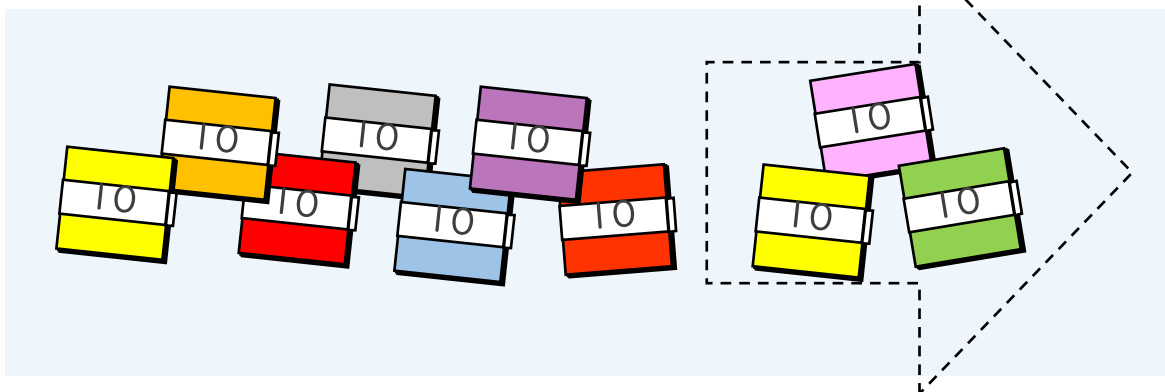
①  $60 - 40$ のこたえはいくつですか。



10のたばが  $6 - 4 = 2$  で  $2$  こだから

$$60 - 40 = 20$$

②  $100 - 30$ のこたえはいくつですか。



10のたばが  $10 - 3 = 7$  で  $7$  こだから

$$100 - 30 = 70$$

