



おおきいかず 17

十のたばのひきざん

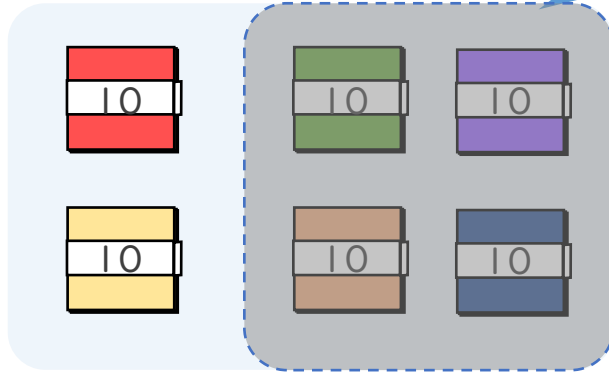


日にち： 月 日

名まえ _____

・ □ にかずをかきましょう。(うすいじはなぞりましょう。)

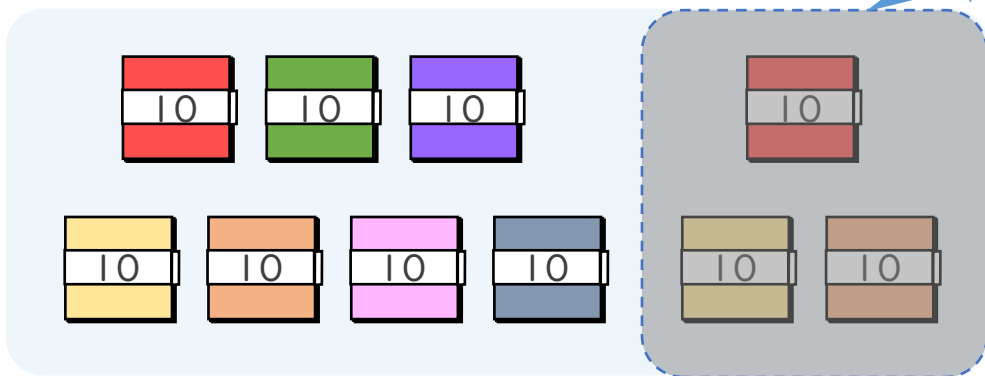
① 60-40の こたえはいくつですか。



10のたばが $6 - 4 = 2$ で 2 こだから

$$60 - 40 = 20$$

② 100-30の こたえはいくつですか。



10のたばが $10 - 3 = \square$ で \square こだから

$$100 - 30 = \square$$





おおきいかず 17

十のたばのひきざん

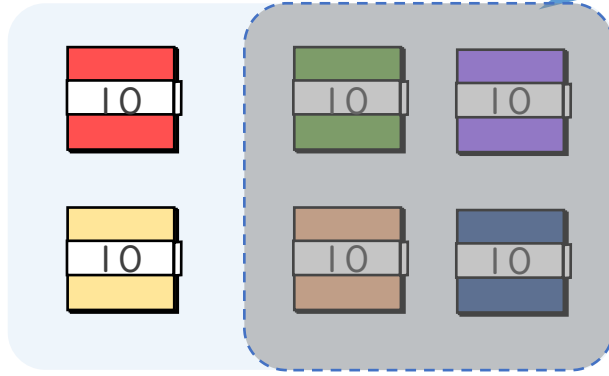


日にち： 月 日

名まえ _____

・ □ にかずをかきましょう。(うすいじはなぞりましょう。)

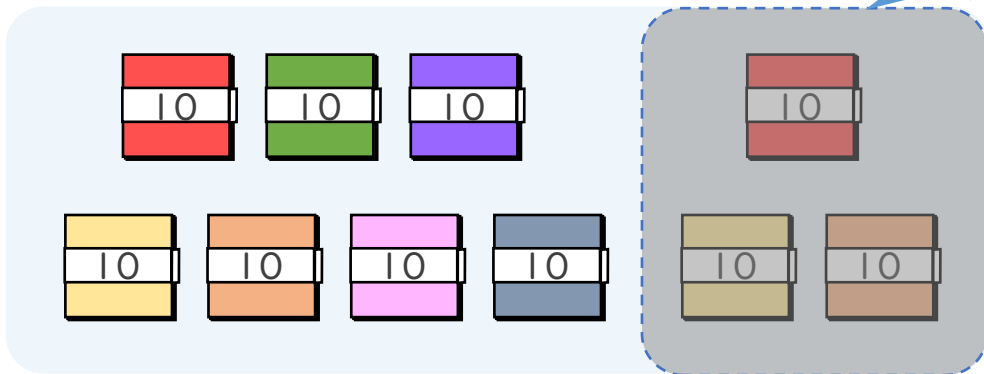
① $60 - 40$ の こたえは いくつですか。



10のたばが $6 - 4 = 2$ で 2 こだから

$$60 - 40 = 20$$

② $100 - 30$ の こたえは いくつですか。



10のたばが $10 - 3 = 7$ で 7 こだから

$$100 - 30 = 70$$

