



くりあがりのある  
たしざん 8


● えとぶんしょうから  
しきをつくろう




日にち：            月            日

名まえ \_\_\_\_\_

1 みかんは あわせて なんこ ですか。しきをかきましょう。  
(うすいじは なぞりましょう。)




8 こ




6 こ

しき：  +  =

2 いちごは あわせて なんこ ですか。しきをかきましょう。  
(うすいじは なぞりましょう。)



5 こ



7 こ

しき：  +  =



くりあがりのある  
たしざん 8


● えとぶんしょうから  
しきをつくろう




日にち：            月            日

名まえ \_\_\_\_\_

1 みかんは あわせて なんこ ですか。しきをかきましょう。  
(うすいじは なぞりましょう。)




8 こ




6 こ

しき：  $\boxed{8} + \boxed{6} = \boxed{14}$

2 いちごは あわせて なんこ ですか。しきをかきましょう。  
(うすいじは なぞりましょう。)



5 こ



7 こ

しき：  $\boxed{5} + \boxed{7} = \boxed{12}$

