



あわせていくつ8

● 0のたしざん



日にち： 月 日

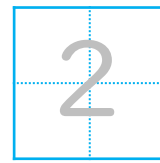
名まえ _____

- ・ たまのかずをあわせるといくつでしょう。
(うすいじはなぞりましょう。)

①



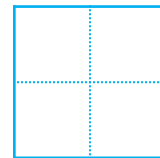
$$2 + 0 =$$



②



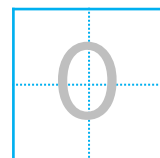
$$0 + 3 =$$



③



$$0 + 0 =$$





あわせていくつ8

● 0のたしざん



日にち： 月 日

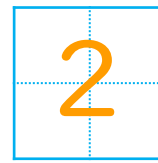
名まえ _____

- ・ たまのかずをあわせるといくつでしょう。
(うすいじはなぞりましょう。)

①



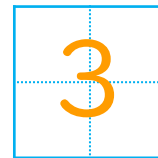
$$2 + 0 =$$



②



$$0 + 3 =$$



③



$$0 + 0 =$$

