



10より  
おおきいかず 10  
● 10といくつかをたしたしき

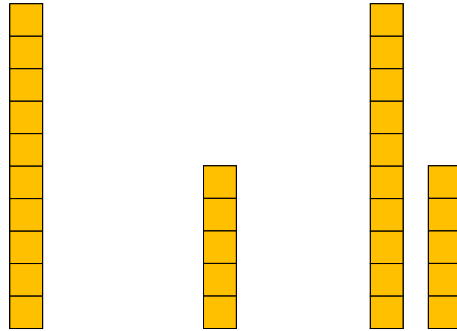


日にち：          月          日

名まえ \_\_\_\_\_


- にかずをかきましょう。(うすいじはなぞりましょう。)

① 10に5をたしたかずは  です。



$$\text{しき} : 10 + 5 = \text{15}$$

② 10に8をたしたかずは  です。



$$\text{しき} : 10 + 8 = \text{ }$$





10より  
おおきいかず 10  
● 10といくつかをたしたしき

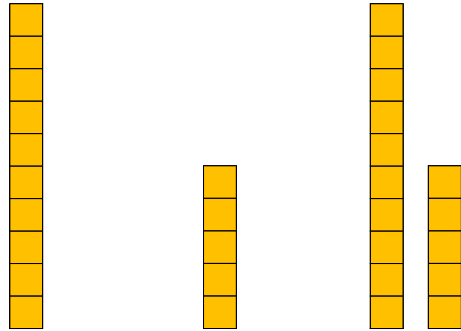


日にち：          月          日

名まえ \_\_\_\_\_


- にかずをかきましょう。(うすいじはなぞりましょう。)

① 10に 5を たした かずは **15** です。



$$\text{しき} : 10 + 5 = \mathbf{15}$$

② 10に 8を たした かずは **18** です。



$$\text{しき} : 10 + 8 = \mathbf{18}$$

