



10より
おおきいかず 12

● 10になる ひきざん

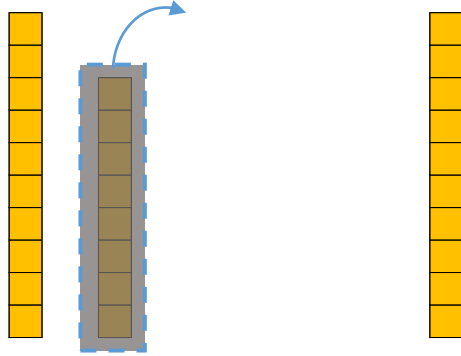


日にち： 月 日

名まえ _____

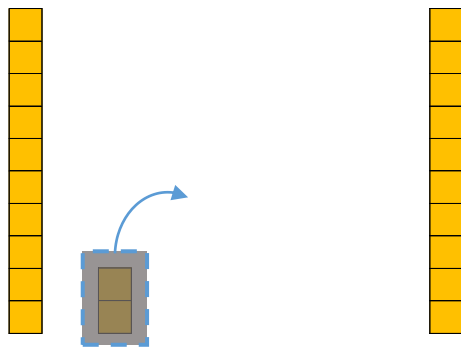
- にかずをかきましょう。(うすいじはなぞりましょう。)

① 18から 8をひいたかずは です。



しき：18 - 8 =

② 12から 2をひいたかずは です。



しき：12 - 2 =





10より
おおきいかず 12

● 10になる ひきざん

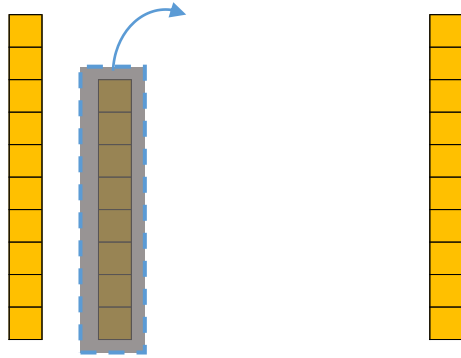


日にち： 月 日

名まえ _____

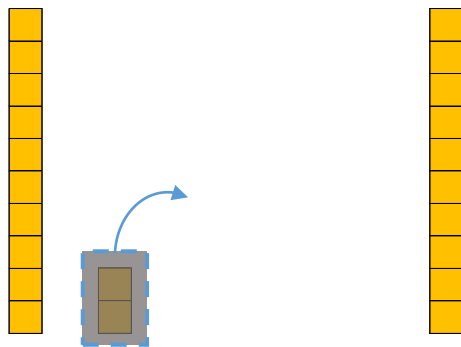
- にかずをかきましょう。(うすいじはなぞりましょう。)

① 18から 8をひいたかずは 10 です。



$$\text{しき} : 18 - 8 = \text{10}$$

② 12から 2をひいたかずは 10 です。



$$\text{しき} : 12 - 2 = \text{10}$$

