



10より  
おおきいかず 13  
● 10より おおきいかずの  
ひきざん

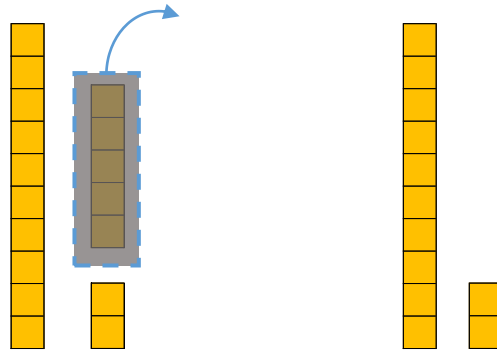


日にち：          月          日

名まえ \_\_\_\_\_

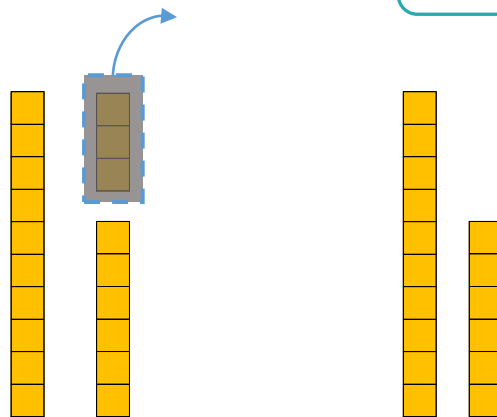
- ・  にかずをかきましょう。(うすいじはなぞりましょう。)

① 17から 5を ひいた かずは  2 です。




$$\text{しき：} 17 - 5 = 12$$

② 19から 3を ひいた かずは  です。



$$\text{しき：} 19 - 3 = \text{ } 6$$





10より  
おおきいかず 13  
● 10より おおきいかずの  
ひきざん

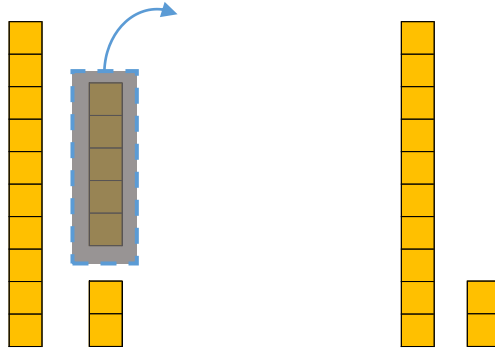


日にち：          月          日

名まえ \_\_\_\_\_

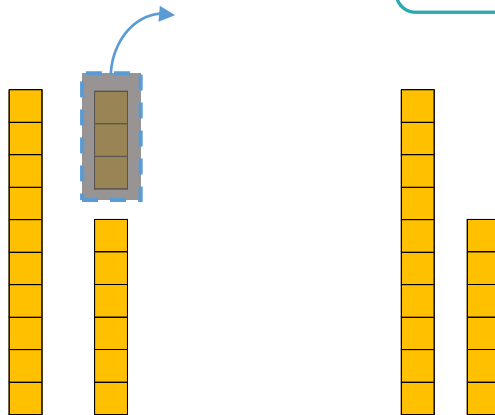
- ・  にかずをかきましょう。(うすいじはなぞりましょう。)

① 17から 5を ひいた かずは  2 です。



$$\text{しき: } 17 - 5 = 12$$

② 19から 3を ひいた かずは  6 です。



$$\text{しき: } 19 - 3 = 16$$

