



# おおきいかず 13

◎ 2けたと1けたのたしざん

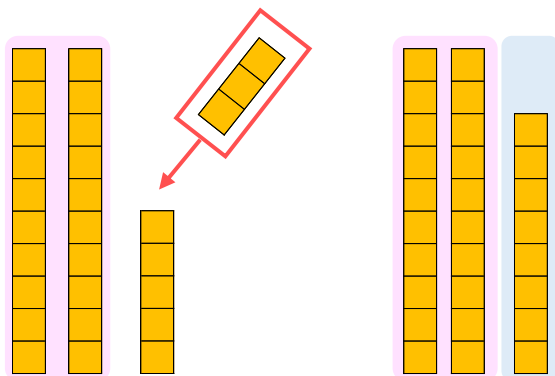


日にち：            月            日

名まえ \_\_\_\_\_

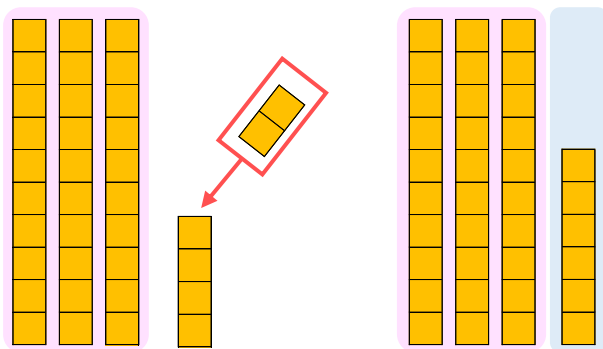
- にかずをかきましょう。(うすいじはなぞりましょう。)

① 25に3をたしたかずは  です。



$$\text{しき： } 25 + 3 = \square$$

② 34に2をたしたかずは  です。



$$\text{しき： } 34 + 2 = \square$$





# おおきいかず 13

◎ 2けたと1けたのたしざん

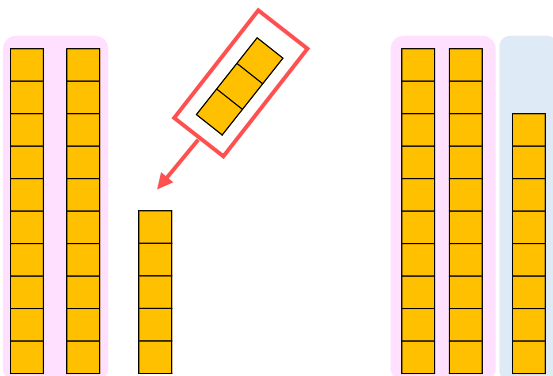


日にち：            月            日

名まえ \_\_\_\_\_

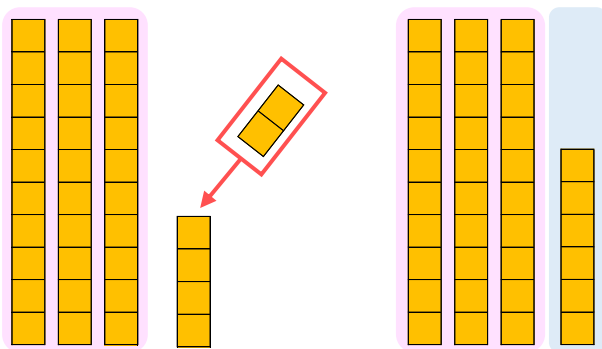
- にかずをかきましょう。(うすいじはなぞりましょう。)

① 25に3をたしたかずは **28** です。



$$\text{しき} : 25 + 3 = 28$$

② 34に2をたしたかずは **36** です。



$$\text{しき} : 34 + 2 = 36$$

