

おおきいかず 16

2けたと1けたのひきざん

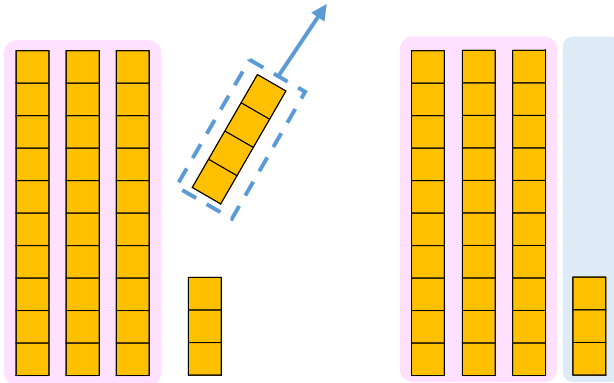


日にち： 月 日

名まえ _____

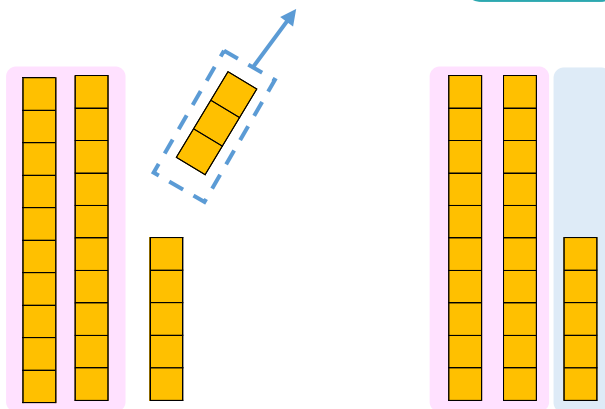
- にかずをかきましょう。(うすいじはなぞりましょう。)

① 37から4をひいたかずは です。



$$\text{しき： } 37 - 4 = \square$$

② 28から3をひいたかずは です。



$$\text{しき： } 28 - 3 = \square$$





おおきいかず 16

2けたと1けたのひきざん

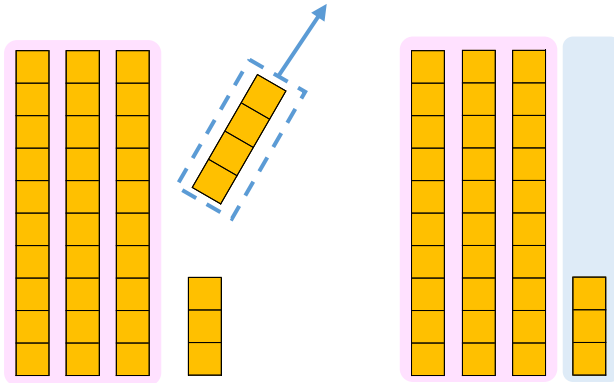


日にち： 月 日

名まえ _____

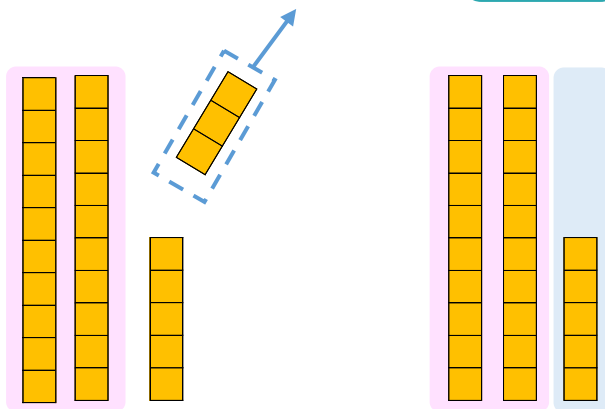
- にかずをかきましょう。(うすいじはなぞりましょう。)

① 37から4をひいたかずは **33** です。



$$\text{しき： } 37 - 4 = 33$$

② 28から3をひいたかずは **25** です。



$$\text{しき： } 28 - 3 = 25$$

