



3つの かずのけいさん！

◎3つのかずのたしざんを
しきにあらわしてみよう



日にち： 月 日

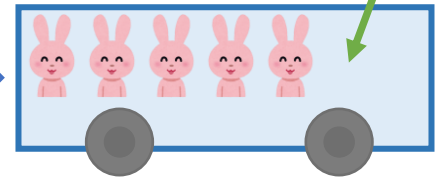

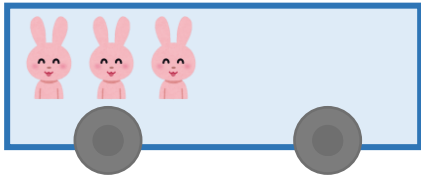
名まえ _____

- うさぎは、みんなでなんびきになりましたか。
(うすいじはなぞりましょう。)

3びきのっています。

2ひきのります。

1びきのります。



☆1つのしきにあらわしてみましよう。

しき： $\begin{array}{c} \text{■} \text{■} \text{■} \\ \boxed{3} \end{array} + \begin{array}{c} \text{■} \text{■} \\ \boxed{2} \end{array} + \begin{array}{c} \text{■} \\ \boxed{1} \end{array} = \begin{array}{c} \text{■} \text{■} \text{■} \text{■} \text{■} \\ \boxed{\quad} \end{array}$

$\boxed{5}$

こたえ： びき



3つの かずのけいさん！

◎3つのかずのたしざんを
しきにあらわしてみよう



日にち： 月 日

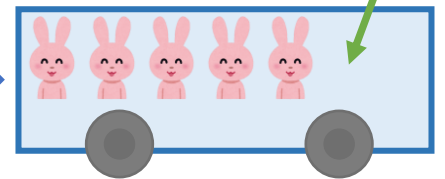
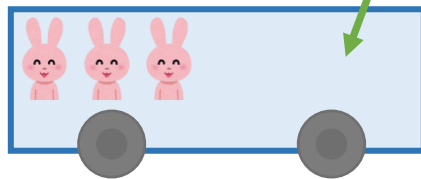
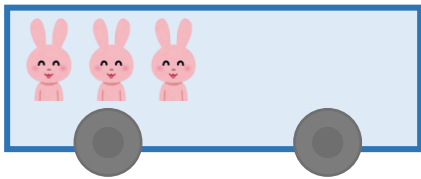
名まえ _____

- うさぎは、みんなでなんびきになりましたか。
(うすいじはなぞりましょう。)

3びきのっています。

2ひきのります。

1びきのります。



☆1つのしきにあらわしてみましよう。

しき： $\begin{array}{c} \text{■} \text{■} \text{■} \\ \boxed{3} \end{array} + \begin{array}{c} \text{■} \text{■} \\ \boxed{2} \end{array} + \begin{array}{c} \text{■} \\ \boxed{1} \end{array} = \begin{array}{c} \text{■} \text{■} \text{■} \text{■} \text{■} \text{■} \\ \boxed{6} \end{array}$

5

こたえ： $\boxed{6}$ びき