



### 3つの かずのけいさん 2

● 3つのかずのひきざんをしきにあらわしてみよう



日にち：            月            日

名まえ \_\_\_\_\_

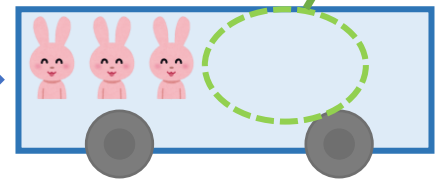

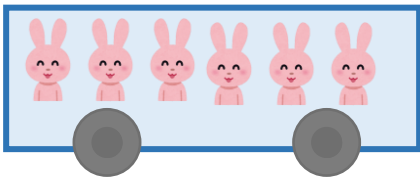
・ うさぎは、なんびきのこっていますか。

(うすいじはなぞりましょう。)





6びきのっています。

1びきおりました。

2ひきおりました。



☆ 1つのしきにあらわしてみましよう。

しき：  -  -  = 

6 - 1 - 2 =

5

こたえ：  びき



### 3つの かずのけいさん 2

3つのかずのひきざんを  
しきにあらわしてみよう



日にち：            月            日

名まえ \_\_\_\_\_

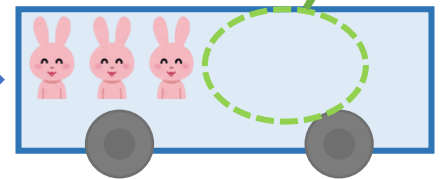

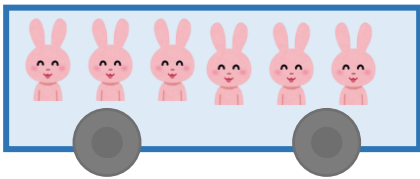
うさぎは、なんびきのこっていますか。

(うすいじはなぞりましょう。)





6びきのっています。

1びきおりました。


2ひきおりました。



☆1つのしきにあらわしてみましよう。

しき：  -  -  = 

$$\boxed{6} - \boxed{1} - \boxed{2} = \boxed{3}$$



こたえ：  びき