



3つの かずのけいさん 4

3つのかずのたしひきの
ぶんしょうもんだい



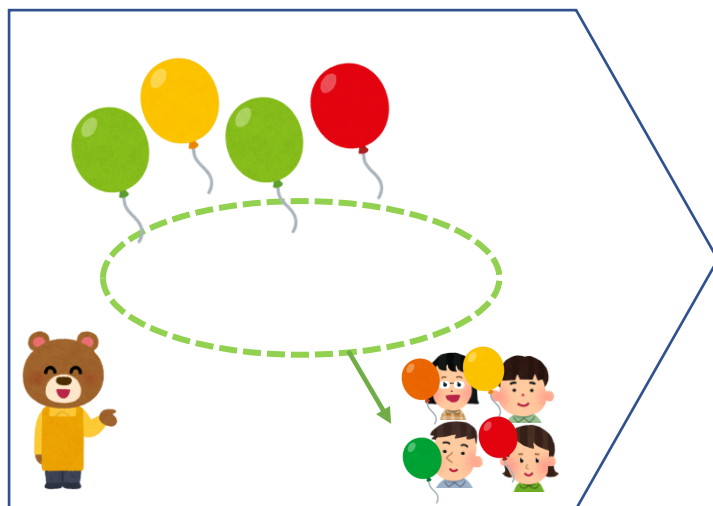
日にち： 月 日

名まえ _____

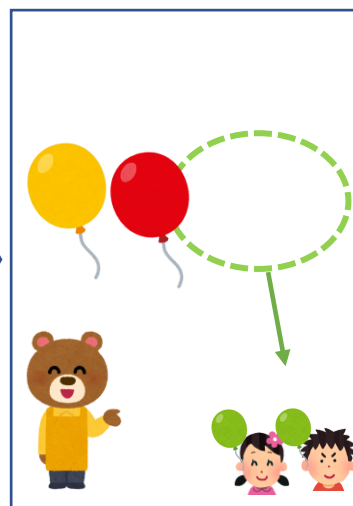
1 ふうせんは、なんこになりましたか。(うすいじはなぞりましょう。)



8こ あります。



4こ あげました。



2こ あげました。

しき：

$$8 - 4 - 2 =$$

こたえ：

こ

2 こどもがこうえんに9にん います。5にん かえり
ました。そのあと 4にん きました。
こどもは なんにん になりましたか。(うすいじは
なぞりましょう。)

しき：

$$\quad - \quad + \quad =$$

こたえ：

にん





3つの かずのけいさん 4

3つのかずのたしひきの
ぶんしょうもんだい



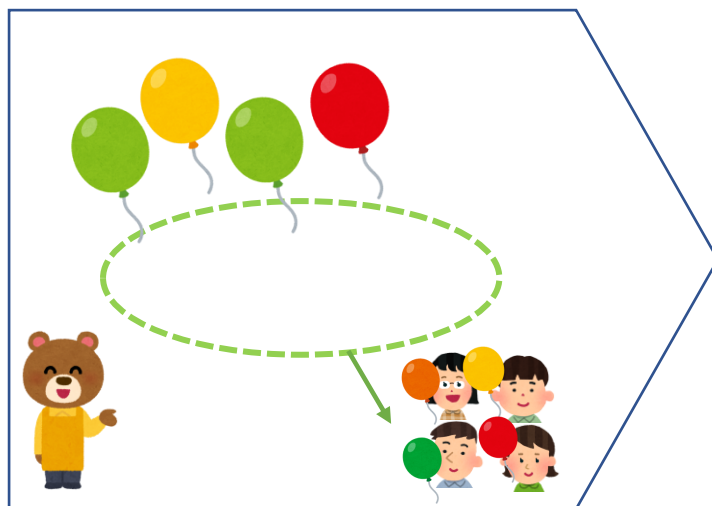
日にち： 月 日

名まえ _____

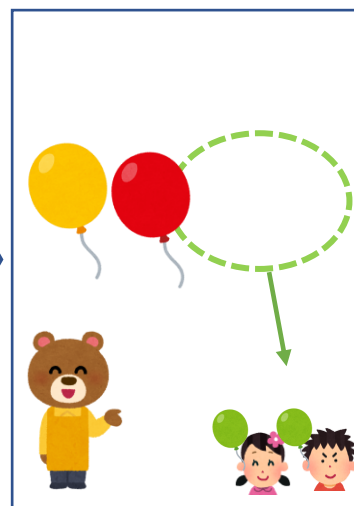
1 ふうせんは、なんこになりましたか。(うすいじはなぞりましょう。)



8こ あります。



4こ あげました。



2こ あげました。

しき：

$$8 - 4 - 2 = 2$$

こたえ： 2こ

2 こどもがこうえんに9にんいます。5にんかえり
ました。そのあと4にんきました。
こどもはなんにんになりましたか。(うすいじは
なぞりましょう。)

しき：

$$9 - 5 + 4 = 8$$

こたえ： 8にん

