



# おおきいかず 12

● 30と5をあわせた数

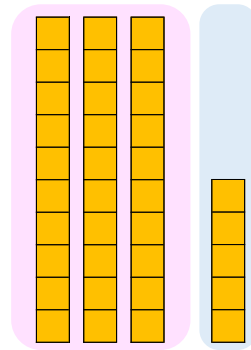


日にち：            月            日

名まえ \_\_\_\_\_

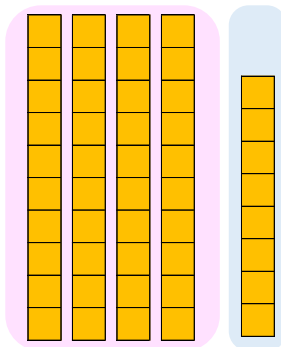
- にかずをかきましょう。(うすいじはなぞりましょう。)

① 30と5をあわせたかずは 35 です。



しき：  $30 + 5 =$    

② 40と8をあわせたかずは    です。



しき：  $40 + 8 =$    





# おおきいかず 12

● 30と5をあわせた数

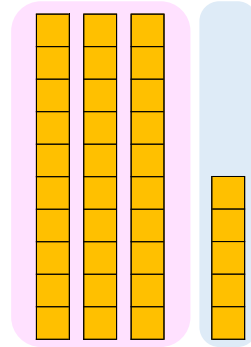


日にち：            月            日

名まえ \_\_\_\_\_

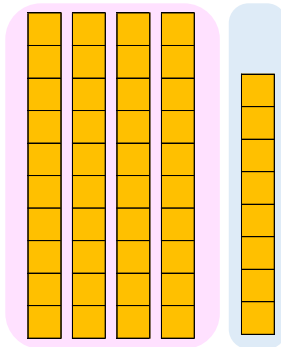
- にかずをかきましょう。(うすいじはなぞりましょう。)

① 30と5をあわせたかずは **35** です。



$$\text{しき} : 30 + 5 = \mathbf{35}$$

② 40と8をあわせたかずは **48** です。



$$\text{しき} : 40 + 8 = \mathbf{48}$$

