



おおきいかず 15

◎ 33 から 3 をひいた数

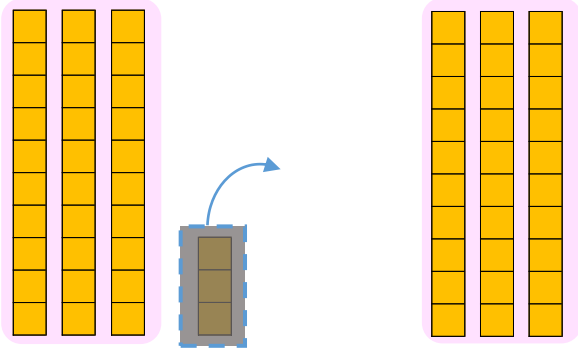


日にち： 月 日

名まえ _____

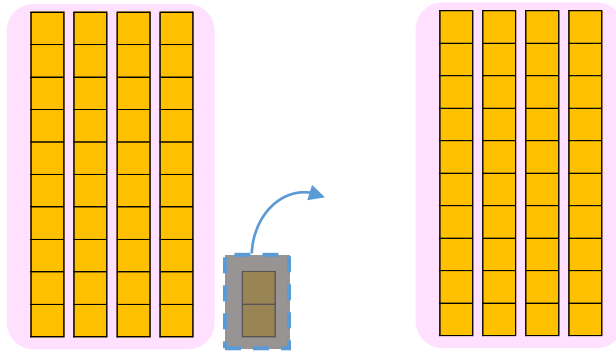
- にかずをかきましょう。(うすいじはなぞりましょう。)

① 33から 3を ひいた かずは です。



しき： 33 - 3 =

② 42から 2を ひいた かずは です。



しき： 42 - 2 =





おおきいかず 15

◎ 33 から 3 をひいた数

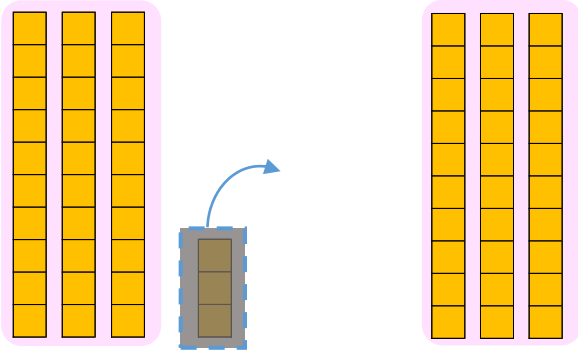


日にち： 月 日

名まえ _____

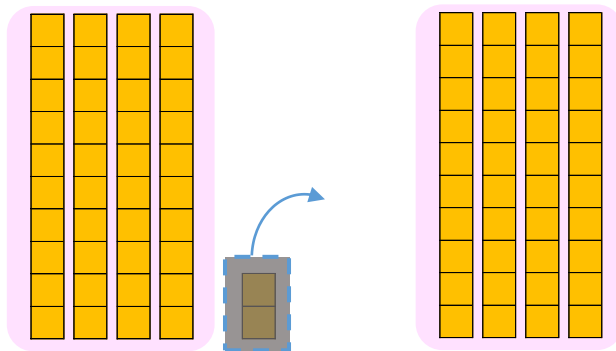
- にかずをかきましょう。(うすいじはなぞりましょう。)

① 33から3をひいたかずは **30** です。



$$\text{しき} : 33 - 3 = \mathbf{30}$$

② 42から2をひいたかずは **40** です。



$$\text{しき} : 42 - 2 = \mathbf{40}$$

