

10よりおおきいかず

10たす3や、15ひく5

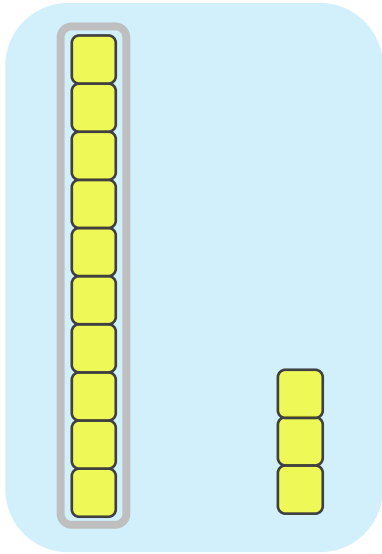


日にち： 月 日

名まえ _____

1. つぎの にかずをかきましょう。
(うすいもじはなぞりましょう。)

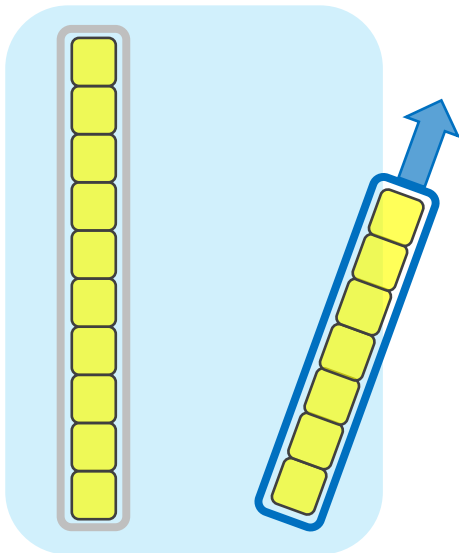
① と をあわせたかずは です。



しき


$$10 + 3 = \square$$

② から をとったかずは です。



しき

$$17 - \square = \square$$



10よりおおきいかず

10たす3や、15ひく5

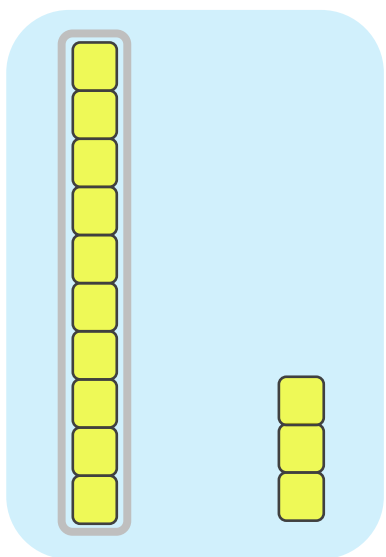


日にち： 月 日

名まえ _____

1. つぎの にかずをかきましょう。
(うすいもじはなぞりましょう。)

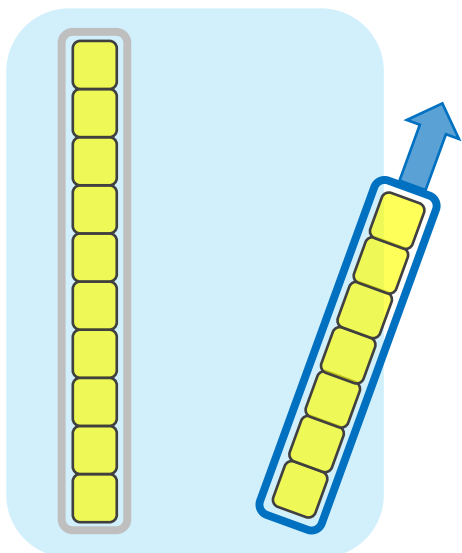
① **10** と **3** をあわせたかずは **13** です。



しき

$$10 + 3 = 13$$

② **17** から **7** をとったかずは **10** です。



しき

$$17 - 7 = 10$$