

たしざんと  
ひきざん 2

● うしろはなんにん?  
(ならびじゆん・きゆうほ)



日にち：            月            日

名まえ \_\_\_\_\_

1 きしやに 12にんのっています。

みきさんはまえから 6ばんめにいます。

①  にあうかずをかきましょう。

まえ

にん

② みきさんのうしろにはなんにんいますか。

しき：

こたえ {

2 そうたさんは、まえから 4ばんめにいます。

そうたさんのうしろに 5にんいます。

①  にあうかずをかきましょう。

まえ


にん            5にん

② みんなでなんにんいますか。

しき：

こたえ {





たしざんと  
ひきざん 2

● うしろはなんにん?  
(ならびじゆん・きゆうほ)

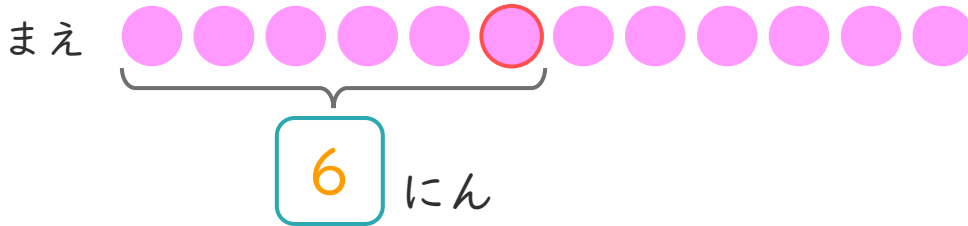


日にち：            月            日

名まえ \_\_\_\_\_

1 きしゃに 12 にんのっています。  
みきさんはまえから 6 ばんめにいます。

①  にあうかずをかきましょう。



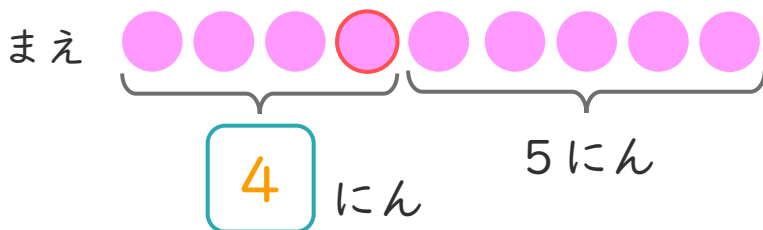
② みきさんのうしろにはなんにんいますか。

しき： $12 - 6 = 6$

こたえ  $\left( \begin{array}{c} 6 \\ \text{にん} \end{array} \right)$

2 そうたさんは、まえから 4 ばんめにいます。  
そうたさんのうしろに 5 にんいます。

①  にあうかずをかきましょう。



② みんなでなんにんいますか。

しき： $4 + 5 = 9$

こたえ  $\left( \begin{array}{c} 9 \\ \text{にん} \end{array} \right)$

