



くりさがりのある  
ひきざん 6

● くりさがりのけいさん  
(4や3をひく)

10

日にち：        月        日

名まえ \_\_\_\_\_

・ けいさんをしましょう。

①  $11 - 4 = \square$

⑤  $11 - 3 = \square$

②  $14 - 5 = \square$

⑥  $12 - 4 = \square$

③  $12 - 3 = \square$

⑦  $15 - 6 = \square$

④  $13 - 6 = \square$

⑧  $13 - 4 = \square$



くりさがりのある  
ひきざん 6

● くりさがりのけいさん  
(4や3をひく)

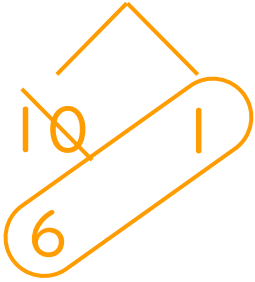


日にち： 月 日

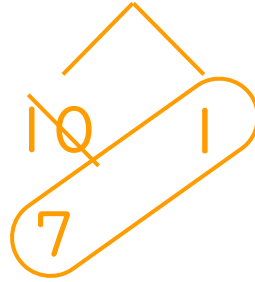
名まえ \_\_\_\_\_

・ けいさんをしましょう。

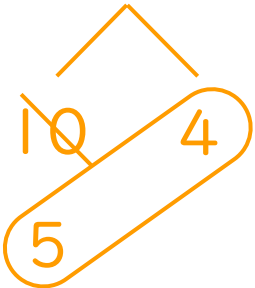
①  $11 - 4 = 7$



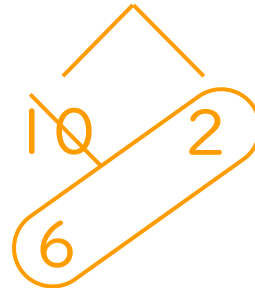
⑤  $11 - 3 = 8$



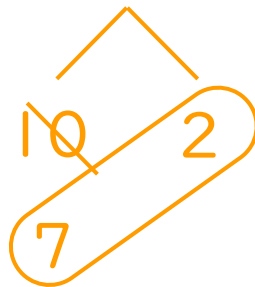
②  $14 - 5 = 9$



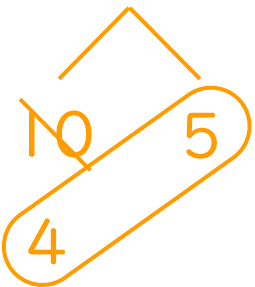
⑥  $12 - 4 = 8$



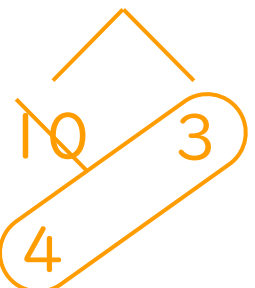
③  $12 - 3 = 9$



⑦  $15 - 6 = 9$



④  $13 - 6 = 7$



⑧  $13 - 4 = 9$

