



くりさがりのある
ひきざん 5

● くりさがりのけいさん
(6や5をひく)



日にち： 月 日

名まえ _____

・ けいさんをしましょう。

① $14 - 6 = \square$

⑤ $12 - 7 = \square$

② $11 - 5 = \square$

⑥ $13 - 5 = \square$

③ $15 - 7 = \square$

⑦ $12 - 6 = \square$

④ $13 - 6 = \square$

⑧ $14 - 5 = \square$



くりさがりのある
ひきざん 5

● くりさがりのけいさん
(6や5をひく)

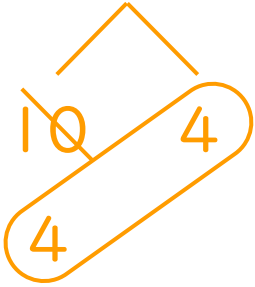


日にち： 月 日

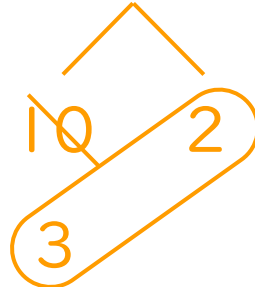
名まえ _____

・ けいさんをしましょう。

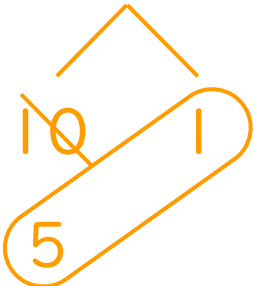
① $14 - 6 = 8$



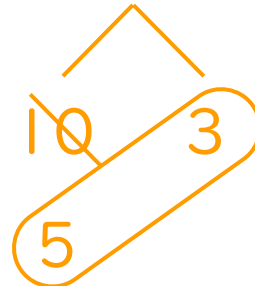
⑤ $12 - 7 = 5$



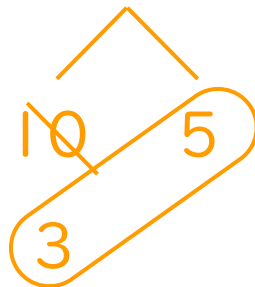
② $11 - 5 = 6$



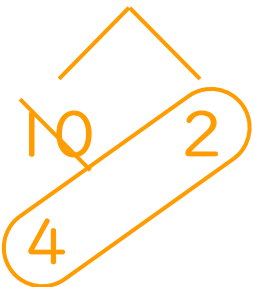
⑥ $13 - 5 = 8$



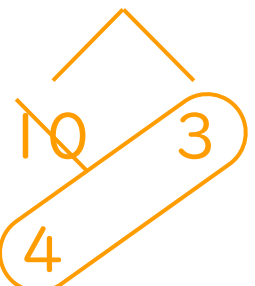
③ $15 - 7 = 8$



⑦ $12 - 6 = 6$



④ $13 - 6 = 7$



⑧ $14 - 5 = 9$

