



たしざんと
ひきざん 6

くりはなんこ?
(きゅうしょう)



日にち： 月 日

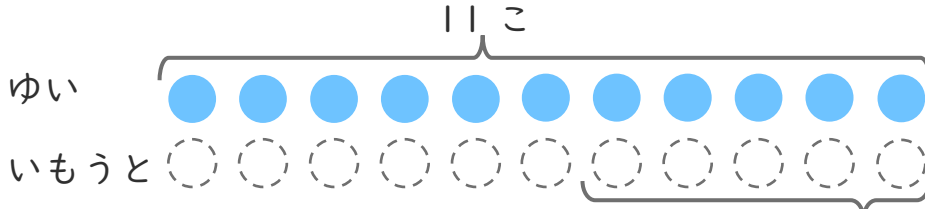
名まえ _____

1

ゆいさんはくりを 11こ ひろいました。

いもうとは、ゆいさんより 5こ すくなくった そうです。

① にあうかずをかきましょう。



○にいろを
ぬりましょう。

② いもうとは、なんこ ひろいましたか。

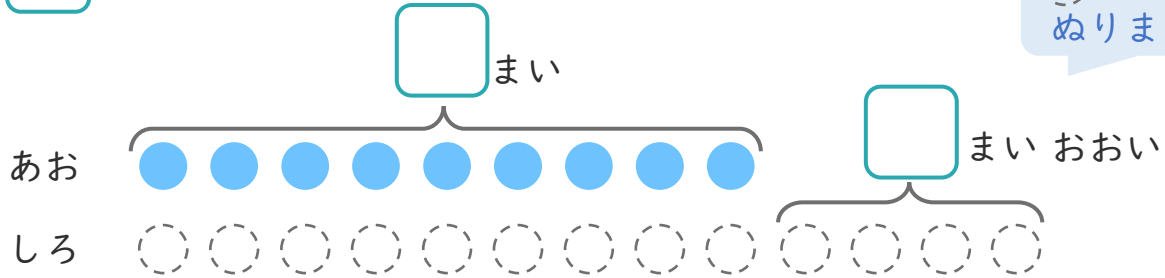
しき：

こたえ {

2 あおい かみを 9まい かいしました。

しろい かみは、あおい かみより 4まい おおく かいしました。

① にあうかずをかきましょう。



○にいろを
ぬりましょう。

② しろい かみは、なんまい かいしましたか。

しき：

こたえ {





たしざんと
ひきざん 6

くりはなんこ?
(きゅうしょう)



日にち： 月 日

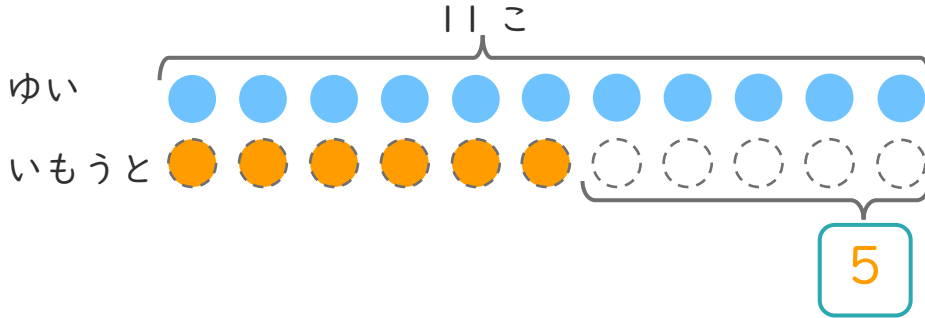
名まえ _____

1

ゆいさんはくりを11こひろいました。

いもうとは、ゆいさんより5こすくなくったそうです。

① にあうかずをかきましょう。



にいろをぬりましょう。

② いもうとは、なんこひろいましたか。

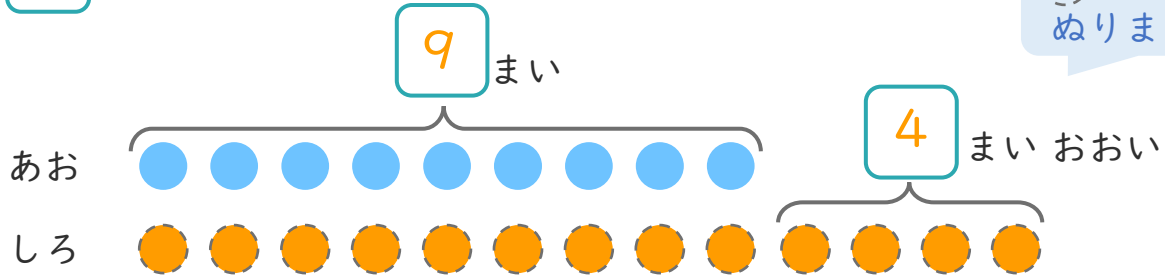
しき： $11 - 5 = 6$

こたえ { 6 こ }

2 あおいかみを9まいかいました。

しろいかみは、あおいかみより4まいおおくかいました。

① にあうかずをかきましょう。



にいろをぬりましょう。

② しろいかみは、なんまいかいましたか。

しき： $9 + 4 = 13$

こたえ { 13 まい }

