



たしざんと  
ひきざん 4

● すわれないひとはなんにん?  
(こすうとにんずう)



日にち： 月 日

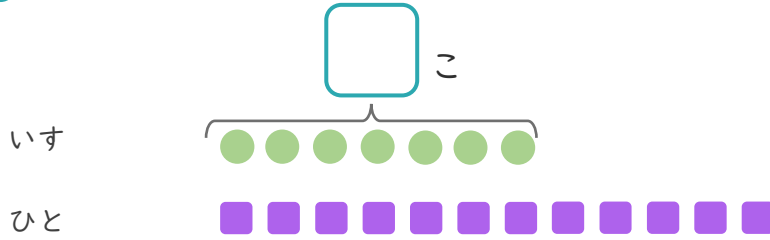
名まえ \_\_\_\_\_

1

いすが 7 こ あります。

12 にんでいすととりゲームをしました。

① □ にあうかずをかきましょう。



● と ■ をせんで  
おすすめしよう。

② いすにすわれないひとはなんにんですか。

しき：

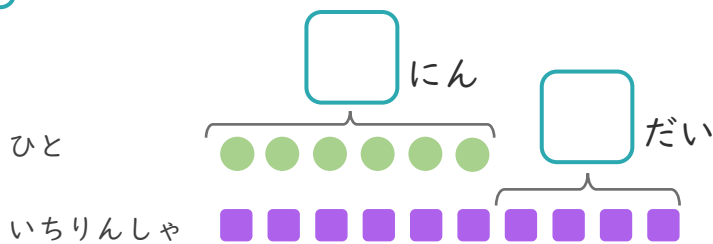
こたえ {

2

6 にんがいちりんしゃであそんでいます。

いちりんしゃはあと 4 だいあります。

① □ にあうかずをかきましょう。



● と ■ をせんで  
おすすめしよう。

② いちりんしゃは、ぜんぶでなんだいありますか。

しき：

こたえ {





たしざんと  
ひきざん 4

● すわれないひとはなんにん?  
(こすうとにんずう)



日にち： 月 日

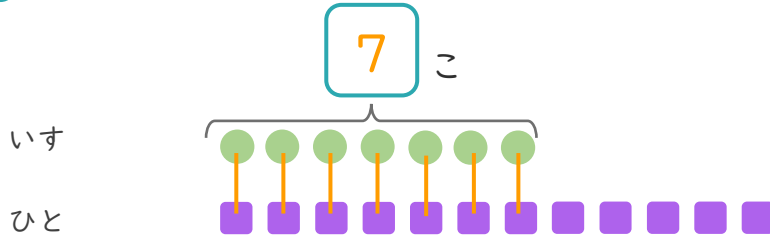
名まえ \_\_\_\_\_

1

いすが 7 こ あります。

12 にんでいすととりゲームを しました。

①  にあうかずをかきましょう。



● と ■ を せんで  
おすびましょう。

② いすに すわれない ひとは なんにん ですか。

しき： $12 - 7 = 5$

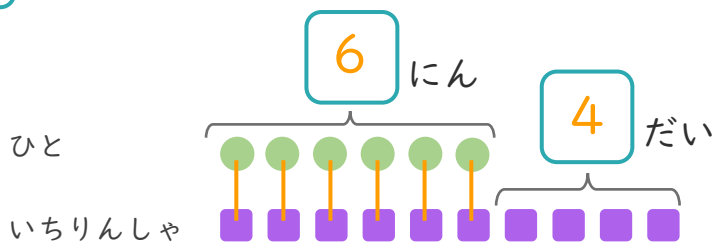
こたえ  $\left( 5 \text{ にん} \right)$

2

6 にんが いちりんしゃで あそんでいます。

いちりんしゃは あと 4 だい あります。

①  にあうかずをかきましょう。



● と ■ を せんで  
おすびましょう。

② いちりんしゃは、ぜんぶで なんだい ありますか。

しき： $6 + 4 = 10$

こたえ  $\left( 10 \text{ だい} \right)$

