



たしざんと
ひきざん 3

● ぜんぶでなんだい?
(にんずうとだいすう)

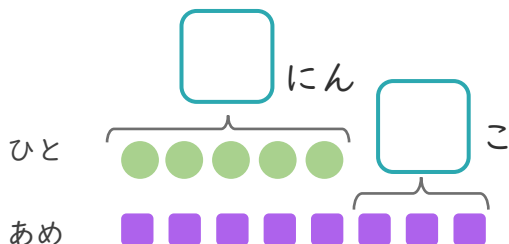


日にち： 月 日

名まえ _____

1 5にんにあめを1こずつわけました。
あめはあと3こあります。

① にあうかずをかきましょう。



● と ■ をせんで
むすびましょう。


② あめは、ぜんぶでなんこありますか。

しき：

こたえ {

2 ぱんやさんに14にんならんでいます。
るいさんはまえから5ばんめにいます。

① にあうかずをかきましょう。



② るいさんのうしろにはなんにんいますか。

しき：

こたえ {





たしざんと
ひきざん 3

● ぜんぶでなんだい?
(にんずうとだいすう)

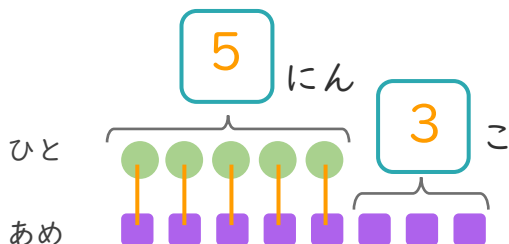


日にち： 月 日

名まえ _____

1 5にんにあめを1こずつわけました。
あめはあと3こあります。

① □にあうかずをかきましょう。



● と ■ を せんで
むすびましょう。

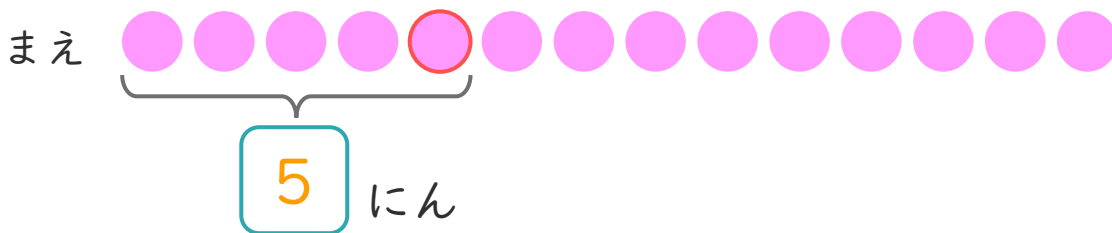
② あめは、ぜんぶでなんこありますか。

しき： $5 + 3 = 8$

こたえ { 8 こ }

2 パンやさんに14にんならんでいます。
るいさんはまえから5ばんめにいます。

① □にあうかずをかきましょう。



② るいさんのうしろにはなんにんいますか。

しき： $14 - 5 = 9$

こたえ { 9 にん }

