



たしざんと  
ひきざん 7

● まえとうしろのにんずう  
ぜんぶでなんにん？

10

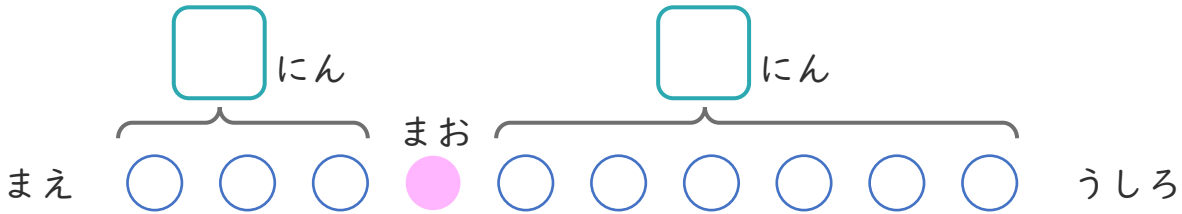
日にち： 月 日

名まえ \_\_\_\_\_

1

こどもがならんでいます。まおさんのまえに3にん、うしろに6にんいます。

①  にあうかずをかきましょう。



② ぜんぶでなんにんならんでいますか。

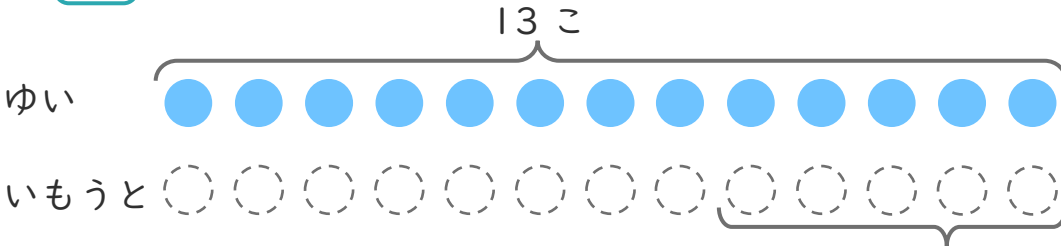
しき：

こたえ

2

ゆいさんはくりを13こひろいました。いもうとは、ゆいさんより5こすくなかったそうです。

①  にあうかずをかきましょう。



○にいろをぬりましょう。

② いもうとは、なんこひろいましたか。

しき：

こたえ





たしざんと  
ひきざん 7

● まえとうしろのにんずう  
ぜんぶでなんにん？

10

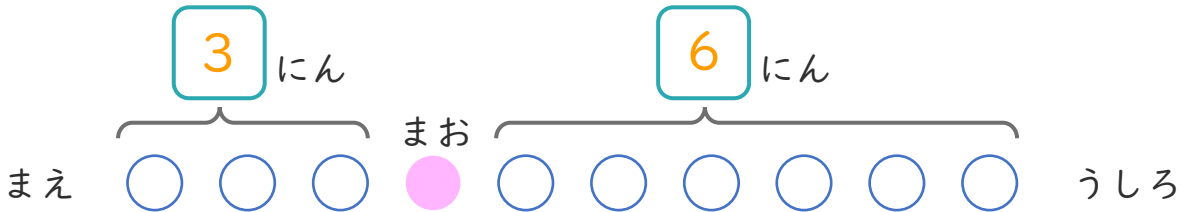
日にち： 月 日

名まえ \_\_\_\_\_

1

こどもがならんでいます。まおさんのまえに3にん、うしろに6にんいます。

①  にあうかずをかきましょう。



② ぜんぶでなんにんならんでいますか。

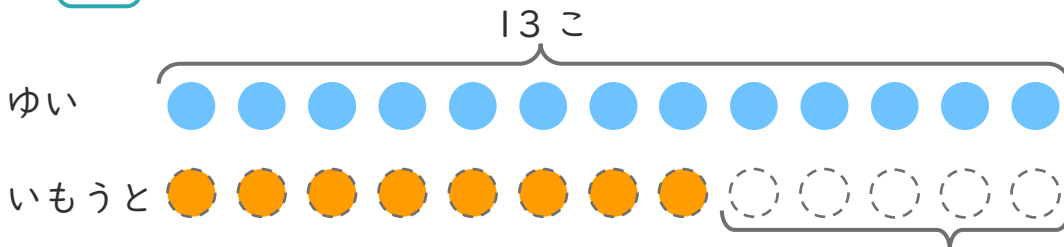
しき： $3 + 1 + 6 = 10$

こたえ  $10$  にん

2

ゆいさんはくりを13こひろいました。いもうとは、ゆいさんより5こすくなくったそうです。

①  にあうかずをかきましょう。



○にいろをぬりましょう。

5 こすくない

② いもうとは、なんこひろいましたか。

しき： $13 - 5 = 8$

こたえ  $8$  こ

