



のこりはいくつ 8

● ひきざんの けいさん


10

日にち： 月 日

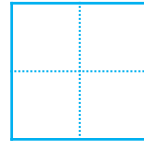
名まえ _____

・ ひきざんを しましょう。

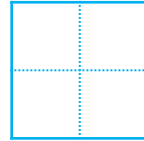
① $7 - 6 =$



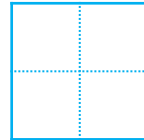
② $9 - 7 =$




③ $8 - 3 =$



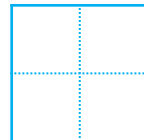
④ $6 - 2 =$



⑤ $3 - 1 =$



⑥ $5 - 4 =$





のこりはいくつ 8

● ひきざんの けいさん

10

日にち： 月 日

名まえ _____

・ ひきざんを しましょう。

① $7 - 6 =$

1

② $9 - 7 =$

2

③ $8 - 3 =$

5

④ $6 - 2 =$

4

⑤ $3 - 1 =$

2

⑥ $5 - 4 =$

1

