



たしざんと
ひきざん 5

● みかんのあめはなんこ?
(きゅうだい)

10

日にち： 月 日

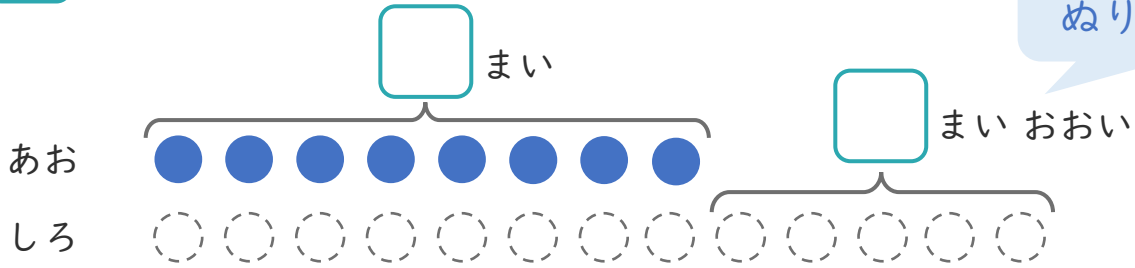
名まえ _____

1 あおい かみを 8まい かいました。

しろい かみは、あおい かみより 5まい おおく かいました。

① に あう かずを かきましょう。

○ に いろを
ぬりましょう。



② しろい かみは、なんまい かいましたか。

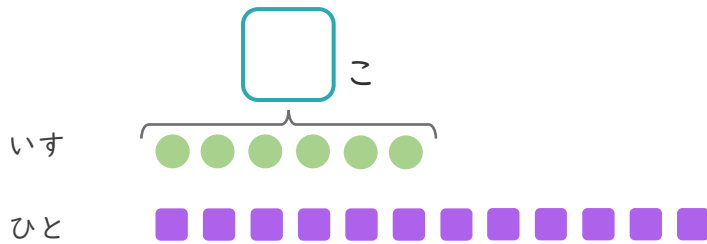
しき：

こたえ { }

2 いすが 6こ あります。

12にんで いすと りゲームを します。

① に あう かずを かきましょう。



● と ■ を せんで
おすびましょう。

② いすに すわれない ひとは なんにん ですか。

しき：

こたえ { }





たしざんと
ひきざん 5

● みかんのあめはなんこ？
(きゅうだい)



日にち： 月 日

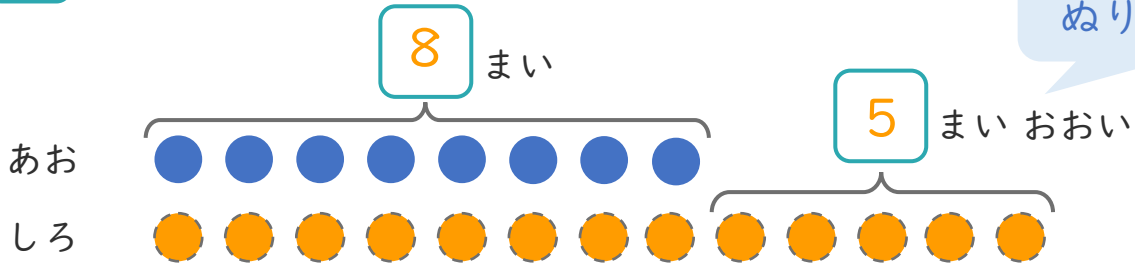
名まえ _____

1 あおい かみを 8まい かいしました。

しろい かみは、あおい かみより 5まい おおく かいしました。

① に あう かずを かきましょう。

○ に いろを
ぬりましょう。



② しろい かみは、なんまい かいしましたか。

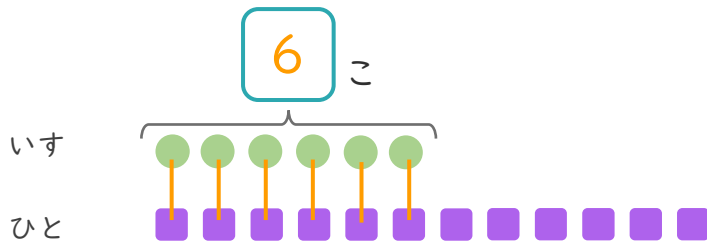
しき： $8 + 5 = 13$

こたえ { 13 まい }

2 いすが 6こ あります。

12にんでいすとりゲームをします。

① に あう かずを かきましょう。



● と ■ を せんで
むすびましょう。

② いすに すわれない ひとは なんにん ですか。

しき： $12 - 6 = 6$

こたえ { 6 にん }

