



くりあがりのある
たしざん 8


● えとぶんしょうから
しきをつくろう

10


日にち： 月 日

名まえ _____

1 とまとは あわせて なんこ ですか。しきをかきましょう。



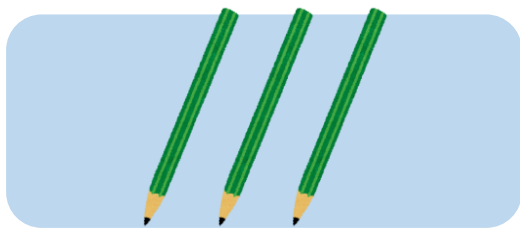
7こ




9こ

しき： + =

2 えんぴつは あわせて なんぼん ですか。しきをかきましょう。



3ぼん



8ぼん

しき： + =



くりあがりのある
たしざん 8


● えとぶんしょうから
しきをつくろう

10


日にち： 月 日

名まえ _____

1 とまとは あわせて なんこ ですか。しきをかきましょう。



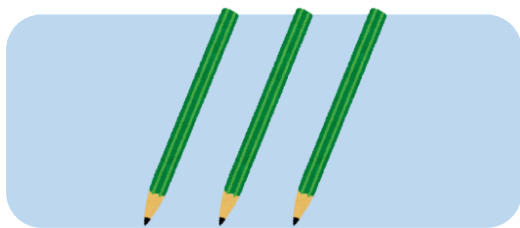
7 こ




9 こ

しき： $\boxed{7} + \boxed{9} = \boxed{16}$

2 えんぴつは あわせて なんぼん ですか。しきをかきましょう。



3 ぼん



8 ぼん

しき： $\boxed{3} + \boxed{8} = \boxed{11}$