



のこりはいくつ？

◎ 10 から ひく ひきざん

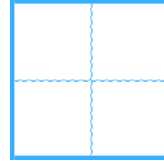
10

日にち： 月 日

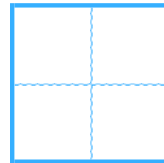
名まえ _____

・ ひきざんを しましょう。

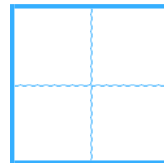
① $10 - 6 =$



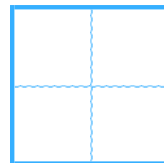
② $8 - 7 =$



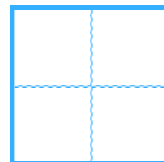
③ $6 - 3 =$



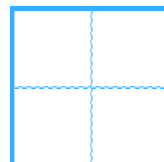
④ $4 - 2 =$



⑤ $5 - 1 =$



⑥ $10 - 4 =$





のこりはいくつ？

◎ 10からひくひきざん

10

日にち： 月 日

名まえ _____

・ ひきざんをしましょう。

① $10 - 6 =$

4

② $8 - 7 =$

1

③ $6 - 3 =$

3

④ $4 - 2 =$

2

⑤ $5 - 1 =$

4

⑥ $10 - 4 =$

6